

**ATIVIDADE DO 4º ANO** \_\_\_\_\_

MATÉRIAS: ENSINO RELIGIOSO E ARTES.

**EMPATIA**

Habilidade de imaginar-se no lugar de outra pessoa. Compreensão dos sentimentos, desejos, ideias e ações de outra pessoa. Qualquer ato de envolvimento emocional em relação a uma pessoa, ou a um grupo e a uma cultura.

1.O que você entendeu do texto?

-----

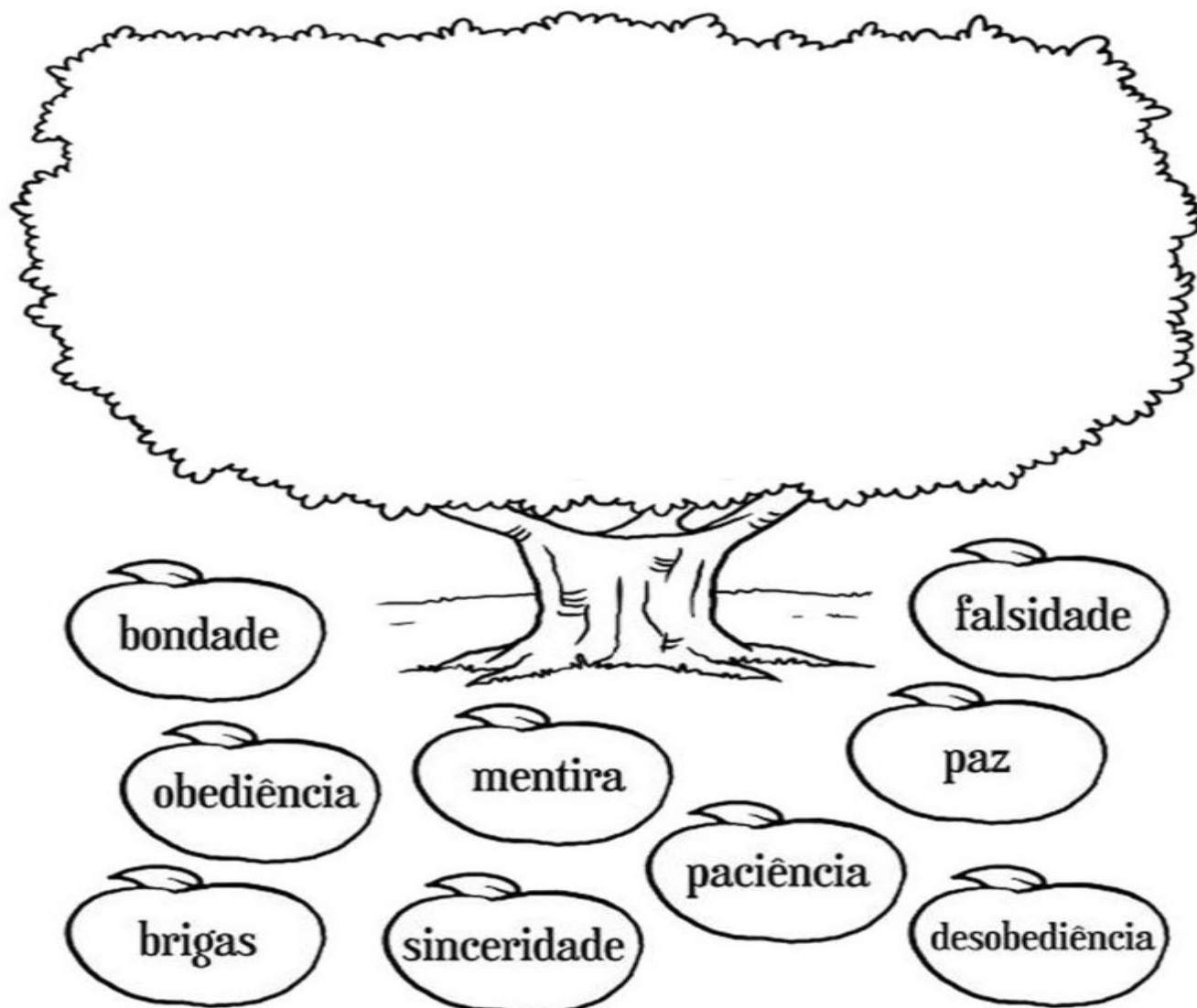
-----

2.você já se colocou no lugar do outro em alguma situação?

-----

-----

3). Essa é a sua árvore. Ela precisa ser regada de bons sentimentos, valores e atitudes para que você seja capaz de praticar a empatia. Como você tem cuidado da sua árvore? Que valores têm cultivado? Desenhe as maçãs na árvore e escreva os valores cultivados.





Today is 27th of July 2020      Grade: 4º \_\_\_\_\_

English teacher: Célia Monteiro.      Student: \_\_\_\_\_


1. Observe as imagens e complete com as palavras do quadro.

**IS – ISN'T ARE AREN'T**

**Observação** IS= É ou ESTÁ    INS'T = NÃO É ou NÃO ESTA ( uso no singular)  
ARE = SÃO ou NÃO ESTÃO    AREN'T = NÃO SÃO ou NÃO ESTÃO.( uso no plural.)



A- He \_\_\_\_\_ happy.



B- They \_\_\_\_\_ strong.



C- It \_\_\_\_\_ a brick house.



D- They \_\_\_\_\_ strong.

2. Desenhe ou escreva um final diferente para a história de Os três porquinhos.

ATIVIDADE DO 4º ANO \_\_\_\_\_

MATÉRIAS: CIÊNCIAS E MATEMÁTICA

**RESOLVA OS PROBLEMAS**

A). Num trem de ferro viajam 252 passageiros em pé e 180 sentados. Quantos passageiros há no trem?

RESPOSTA=

B). Para uma festa, foram compradas 5 dúzias de rosas, 2 dezenas de hortênsias e 1 dezena de palmas. Quantas flores enfeitaram a festa?


RESPOSTA=

C) Chiquinho coleciona carrinhos. Ele possui 5 dezenas de carros vermelhos, 70 carros amarelos, 30 carros azuis e 35 carros verdes. Quantos carrinhos Chiquinho possuem em sua coleção?

RESPOSTA=

**Aquecimento Global**

A atmosfera funciona como um cobertor para a Terra, pois certa quantidade de gás carbônico no ar ajuda a segurar o calor do Sol. Esse é o chamado efeito estufa. A luz do Sol bate na Terra, uma parte dela é absorvida e outra é refletida de volta para o espaço. O gás carbônico existente no ar impede que boa parte dessa luz solar escape. Então, ela se transforma em calor e aquece a Terra o suficiente para que possamos viver nela.



1) O que é efeito estufa?

\_\_\_\_\_  
\_\_\_\_\_

2) Pesquise e responda:

a) Como o Efeito Estufa contribui com o Aquecimento Global?

\_\_\_\_\_  
\_\_\_\_\_

b) O que pode ser feito para evitar a destruição da camada de ozônio?

\_\_\_\_\_  
\_\_\_\_\_

c) Pequenas atitudes podem contribuir para a preservação e a melhoria do meio ambiente. Cite algumas delas.

\_\_\_\_\_  
\_\_\_\_\_

ATIVIDADE DO 4º ANO \_\_\_\_\_

MATÉRIAS: PORTUGUÊS E MATEMÁTICA

**O TEMPO**

Como é que o tempo

Gosta de passar o tempo?

Será que ele tem

Algum passatempo?

Será que ele perde as horas?

Ou usa despertador?

Será que ele nunca para

Nem para dar um tempo?

Será que ele nunca se cansa?

Será que ele não tira férias?

Será que ele passa frio

Quando não é bom tempo?



**APÓS A LEITURA DO TEXTO, RESPONDA:**

a) Quais são os meios utilizados pelo homem para medir a passagem do tempo?

-----  
-----

b) Quanto tempo você fica na escola?

**RESOLVA**

1) Faltam 6 semanas e 5 dias para Joana tirar férias. Esse tempo corresponde a:

- A) 35 dias    B) 42 dias    C) 47 dias    D) 49 dias

2) A edição da Copa das Confederações de 2013 foi sediada no Brasil e teve duração de 2 semanas. Quantos dias durou esse evento?

- A) 2    B) 7    C) 14    D) 20

3) Uma partida de futebol tem duração de 90 minutos. Esse tempo corresponde a:

- A) 1 hora e 15 minutos    B) 1 hora e 20 minutos    C) 1 hora e 30 minutos    D) 1 hora e 35 minutos.

**ATIVIDADE DO 4º ANO** \_\_\_\_\_

MATÉRIAS: HISTÓRIA E GEOGRAFIA

**HISTÓRIA DO MATO GROSSO**

O primeiro governador foi Antônio Rolim de Moura, que mais tarde foi nomeado vice-rei do Brasil. Em 1752 fundou Vila Bela da Santíssima Trindade que foi a 1ª capital. Luís Albuquerque Melo Pereira e Cáceres foi o 4º governador (1772-1789). Realizou o 1º censo da população, resolveu sérios problemas sanitários. Para defender a região dos espanhóis: funda às margens direitas do Rio Paraguai o Forte Coimbra, este forte era para ser construído no Fecho do Morro atual Porto Murtinho, 300 Km abaixo; funda Vila Nossa Senhora de Albuquerque atual Corumbá /1778; funda Ladário e subindo o rio Vila Maria atual Cáceres. No Norte o Forte de São João da Beira (rio Guaporé).

**RESPONDA:**

1) Quem foi o primeiro Governador de Mato Grosso?

\_\_\_\_\_

2) Qual foi a primeira capital de Mato Grosso?

\_\_\_\_\_

3) Em que ano foi fundada Vila Bela da Santíssima Trindade?

\_\_\_\_\_

O desenvolvimento do Estado de Mato Grosso está ligado com a zona Rural e com a Zona Urbana.

As profissões da zona urbana estão relacionadas com a presença de maquinário, robotização, além de maior tecnologia no processo produtivo. A grande maioria das profissões está ligada na área da industrialização e turismo.

Acerca das profissões rurais, pode-se compreender que estão relacionadas com o cultivo de grãos, criação de animais, além de trabalho familiar, isto é, voltado para cultivo do meio em que são produzidos.

4) De exemplo de atividades desenvolvidas na:

a) Zona Rural \_\_\_\_\_

b) Zona Urbana \_\_\_\_\_

5) Encontre no caça- palavras os nomes de alguns produtos da agricultura e da pecuária e escreva-as no quadro correto

Agricultura	Pecuária
_____	_____
_____	_____
_____	_____



ATIVIDADE DO 4º ANO \_\_\_\_\_

MATÉRIAS: PORTUGUÊS E CIÊNCIAS.

Leia o texto com bastante atenção:

AS FÉRIAS DE ALICE

Alice passou as férias em uma fazenda. Foi uma delícia. Seu passatempo preferido era andar a cavalo. Pela manhã, costumava ir ao curral para ver a ordenha das vacas.

Além de vacas e cavalos, na fazenda também se criavam algumas galinhas, alguns patos, poucos perus e alguns porcos. As galinhas, os patos e os perus eram criados soltos numa pequena área próxima de um pequeno lago, e os porcos, num chiqueiro.

De vez em quando, Alice saía para uma pescaria com alguns amigos. Era uma festa toda vez que alguém pegava um peixe.

Certo dia, o primo de Alice pegou uma traíra enorme. Voltando da pescaria, alguém teve a infeliz ideia de cutucar, um ninho de abelha preso a um galho de árvore. Foi um deus-nos acuda! Como o pessoal correu!

Na corrida, Alice quase pisou num sapo que estava quietinho debaixo de uma moita.

Que confusão!

1- Agora complete o quadro abaixo copiando do texto: “As férias de Alice” o nome de um animal que seja:

Mamífero a)	Ave b)	Inseto c)	Anfíbio d)	Peixe e)

2. LOCALIZE NESTE DIAGRAMA SEIS NOMES DE ANIMAIS QUE VIVEM NO MAR.

T	C	A	M	A	R	Ã	O	Q	T	X	A
U	A	I	J	K	L	M	P	O	L	V	O
B	R	Y	W	I	J	P	Z	X	E	U	Z
I	O	L	B	A	L	E	I	A	C	V	Y
X	P	T	U	W	R	C	H	F	O	C	A
T	U	B	A	R	Ã	O	B	N	P	T	L
S	W	U	B	G	O	L	F	I	N	H	O

3. Retire os nomes do caça palavras e separe as sílabas corretamente.

---



---



---

4. Forme uma frase usando pelo menos três nomes destes animais do caça palavras.

---



---



---

ATIVIDADE DO 4º ANO \_\_\_\_\_

MATÉRIAS: PORTUGUÊS E MATEMÁTICA

AS ORQUÍDEAS

A maior família de plantas floridas é a da orquídea. São mais de 30 mil espécies! Ela gosta de climas quentes e úmidos e, por isso, é facilmente encontrada em países tropicais, como o Brasil. Com suas cores variadas, as orquídeas atraem muitos pássaros e insetos. Os pássaros e insetos são responsáveis por recolher o pólen e levar até outras orquídeas, fazendo nascer novas flores.

As flores da orquídea podem ser menores que um dedo ou chegar até 20 centímetros de comprimento. Ela floresce apenas uma vez por ano e suas flores durante um mês.

Muitas espécies crescem em cima de galhos, ramos e troncos de árvores.

Apesar de belas, as orquídeas não têm cheiro.

Uma curiosidade: O sabor baunilha, que sentimos nos doces, é extraído de um tipo de orquídea chamado Vanilla.

Interpretação de texto

1- Qual é a maior família de plantas floridas?

\_\_\_\_\_

2- Qual é o clima preferido das Orquídeas?

\_\_\_\_\_

3- As flores das orquídeas podem ter qual tamanho?

\_\_\_\_\_

4- A mãe de Ana gosta muito de orquídeas. Ela foi a uma floricultura e comprou duas orquídeas floridas. Cada uma delas custava 75 reais. Quanto a mãe de Ana pagou pelas duas orquídeas?

Resposta: \_\_\_\_\_

5- Para pagar as duas orquídeas, a mãe de Ana deu 200 reais para a dona da loja. Quanto ela recebeu de troco?

Resposta: \_\_\_\_\_