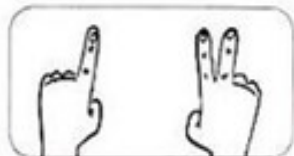
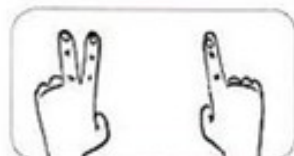


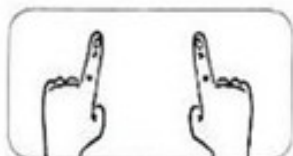
1 JUNTE A QUANTIDADE INDICADA PELOS DEDOS E REGISTRE O TOTAL.



$1 + 2 = \bigcirc$



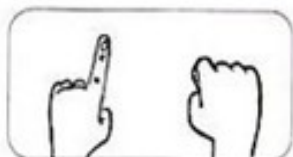
$2 + 1 = \bigcirc$



$1 + 1 = \bigcirc$



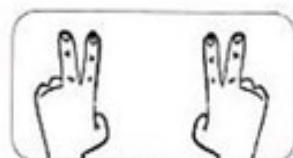
$2 + 0 = \bigcirc$



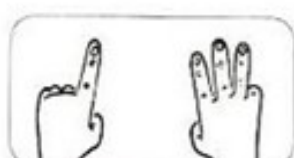
$1 + 0 = \bigcirc$



$3 + 1 = \bigcirc$



$2 + 2 = \bigcirc$




$1 + 3 = \bigcirc$

Márcio Luiz de Castro

2 OBSERVE OS DESENHOS E RESPONDA SOBRE CADA SITUAÇÃO. JÁ COMECEI!

A) MARCELO JÁ TEM



2 PIPAS.

COMPROU MAIS




1 PIPA.

MARCELO FICOU COM 3 PIPAS.

$2 + 1 = 3$

B) CAMILA JÁ TEM



3 LÁPIS.

COMPROU MAIS



2 LÁPIS.

CAMILA FICOU COM 5 LÁPIS.

$3 + 2 = 5$

C) JULIANO JÁ TEM



4 JOGOS.

COMPROU MAIS



2 JOGO.

JULIANO FICOU COM 6 JOGOS.

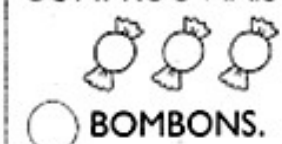
$4 + 2 = 6$

D) RAIANE JÁ TEM



5 BOMBONS.

COMPROU MAIS



3 BOMBONS.

RAIANE FICOU COM 8 BOMBONS.

$5 + 3 = 8$

E) MAMÃE JÁ TEM



4 OVOS NA GELADEIRA.

SE MAMÃE COMPRAR MAIS



4 OVOS,

MAMÃE VAI FICAR COM 8 OVOS.


$4 + 4 = 8$


PORTUGUÊS

ATIVIDADES DO 1º ANO


LETRA INICIAL

1 PINTE AS FIGURAS QUE COMEÇAM COM A LETRA INDICADA NA PÁGINA E ESCREVA SEUS NOMES NAS LINHAS.





2 COMPLETE AS PALAVRAS COM AS SÍLABAS
TA - TE - TI - TO OU TU



__RTARUGA



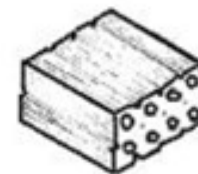
__TU



__CA



__MATE



__JOLO



__IA



__URO



__PETE



__CANO


PORTUGUÊS

ATIVIDADES DO 1º ANO ____

1- MONTE AS PALAVRAS:

TA	+	TU	=		TEI	+	A	=	
TE	+	LA	=		TEI	+	MA	=	
PO	+	TE	=		TE	+	MA	=	
TO	+	DO	=		ME	+	TA	=	
TO	+	DA	=		TI	+	ME	=	
TO	+	MA	=		PA	+	TO	=	
FO	+	TO	=		PA	+	TA	=	

2- **CRUZA-T**



OITO - TOMATE - ABACATE - TELEFONE -
SABONETE- SETE- TELA - TUCANO- FOTOS

CIÊNCIAS

ATIVIDADES DO 1º ANO ____


1 VAMOS OBSERVAR O CORPO DOS ANIMAIS E LIGAR.



PENAS



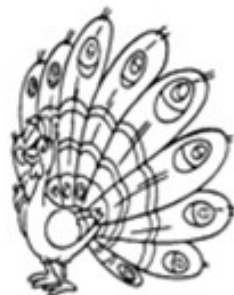
PELOS



ESCAMAS



CARAPAÇA

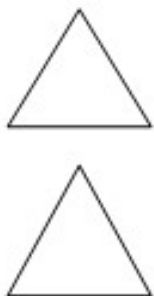
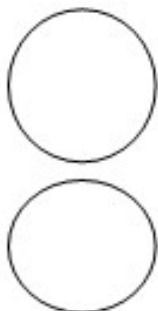


2-ESCREVA ABAIXO DE CADA ANIMAL, COMO É A COBERTURA DE SEU CORPO (CARAPAÇA- PÊLOS- ESCAMAS- PENAS- PÊLE LISA).



ARTES

1-COM RETÂNGULOS, CIRCULOS E TRIÂNGULOS, DESENHE UMA FIGURA HUMANA DA SUA IMAGINAÇÃO. OBSERVE MODELO.



1-ESSA É SUA ÁRVORE. ELA PRECISA SER REGADA DE BONS SENTIMENTOS, VALORES E ATITUDES PARA QUE VOCÊ SEJA CAPAZ DE PRATICAR A EMPATIA. COMO VOCÊ TEM CUIDADO DE SUA ARVORE? QUE VALORES TEM CULTIVADO? ESCREVA NOS CORAÇÕES.



HISTÓRIA

O TRABALHO É IMPORTANTE

O TRABALHO É MUITO BOM
ENGRANDECE O CIDADÃO,
AMANDO O QUE FAÇO
NÃO IMPORTA A PROFISSÃO!

↓ QUANTAS LETRAS?

TRABALHO

PROFISSÃO


BOM

CIDADÃO

- COLOQUE A LETRA INICIAL DE CADA PROFISSÃO.



2 OBSERVE OS DESENHOS, DIGA O NOME DE CADA PROFISSÃO EM VOZ ALTA, E DEPOIS, PINTE AS PROFISSÕES QUE VOCÊ CONHECE.



GEOGRAFIA

MEIOS DE TRANSPORTE

OS MEIOS DE TRANSPORTE SÃO DE GRANDE IMPORTÂNCIA PARA O DESENVOLVIMENTO DO NOSSO PAÍS.

ELES SERVEM PARA TRANSPORTAR PESSOAS E CARREGAR MERCADORIAS.

SÃO DIVIDIDOS EM:

. TERRESTRES: OS AUTOMÓVEIS, OS ÔNIBUS, OS CAMINHÕES, O TREM, O METRÔ, ETC.



. AQUÁTICOS: SÃO OS NAVIOS, IATE, OS BARCOS E AS CANOAS.




. AÉREOS: AVIÕES, HELICÓPTEROS, ETC.



1- FAÇA UM COLORIDO BEM BONITO.


2- DIGA EM VOZ ALTA O NOME DE CADA MEIO DE TRANSPORTE, CIRCULE E PINTE OS QUE VOCÊ JÁ UTILIZOU.



MATEMÁTICA

01-LEIA COM ATENÇÃO E SIGA AS INSTRUÇÕES:

- COM O DEDO INDICADOR SIGA O TRAÇADO DO NÚMERO
- CONTORNE O NÚMERO E DEPOIS ESCREVA SOZINHO
- POR FIM CONTE JOANHINHAS E AS ESTRELAS E PINTE COM CARINHO.




15 - 15 - 15 - 15 - 15 - 15 - 15 - 15 - 15
15
15



16 - 16 - 16 - 16 - 16 - 16 - 16 - 16 - 16 -
16
16

SEQUÊNCIA NUMÉRICA

1- VAMOS AJUDAR O POOH E O LEITÃO A COLOCAR OS NUMERAIS EM ORDEM POR SEQUÊNCIA:



2 - VAMOS ESCREVER O NOME DOS NÚMEROS:

- | | |
|----------|----------|
| 0 _____ | 1 _____ |
| 2 _____ | 3 _____ |
| 4 _____ | 5 _____ |
| 6 _____ | 7 _____ |
| 8 _____ | 10 _____ |
| 11 _____ | 12 _____ |
| 13 _____ | 14 _____ |