

**MATEMÁTICA**

**DEZENA**


1 - UMA **DEZENA** CORRESPONDE A **10 UNIDADES**.  
COMPLETE O RETÂNGULO ABAIXO ATÉ CHEGAR 10  
UNIDADES (**1 DEZENA**).



2 - QUANTAS UNIDADES FALTAM PARA COMPLETAR  
**1 DEZENA**? REGISTRE O NÚMERO.




3 - A METADE DE **1 DEZENA** É **MEIA DEZENA** QUE SÃO  
**5 UNIDADES**. CIRCULE A METADE DOS ELEMENTOS.



**11º SEMANA**

4- OBSERVE OS DESENHOS E RESPONDA:



A) QUANTAS BORBOLETAS NA CENA?

B) QUANTAS JOANINHAS?

C) QUANTAS JOANINHAS DO LADO  
ESQUERDO DA JARDINEIRA?

D) QUANTAS JOANINHAS DO  
LADO DIREITO DA JARDINEIRA?

E) QUANTAS FLORES?

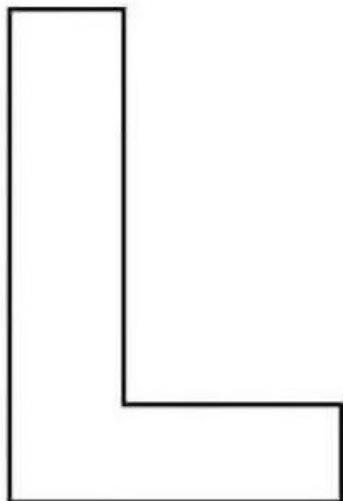
F) QUANTAS JOANINHAS DO LADO  
DIREITO DA BORBOLETA?

G) QUANTAS JOANINHAS EM CIMA DA FLOR?

**PORTUGUÊS**

**ATIVIDADES DO 1º ANO** \_\_\_\_\_

**1** PINTE AS FIGURAS QUE COMEÇAM COM A LETRA INDICADA NA PÁGINA E ESCREVA SEUS NOMES NAS LINHAS.




---

---

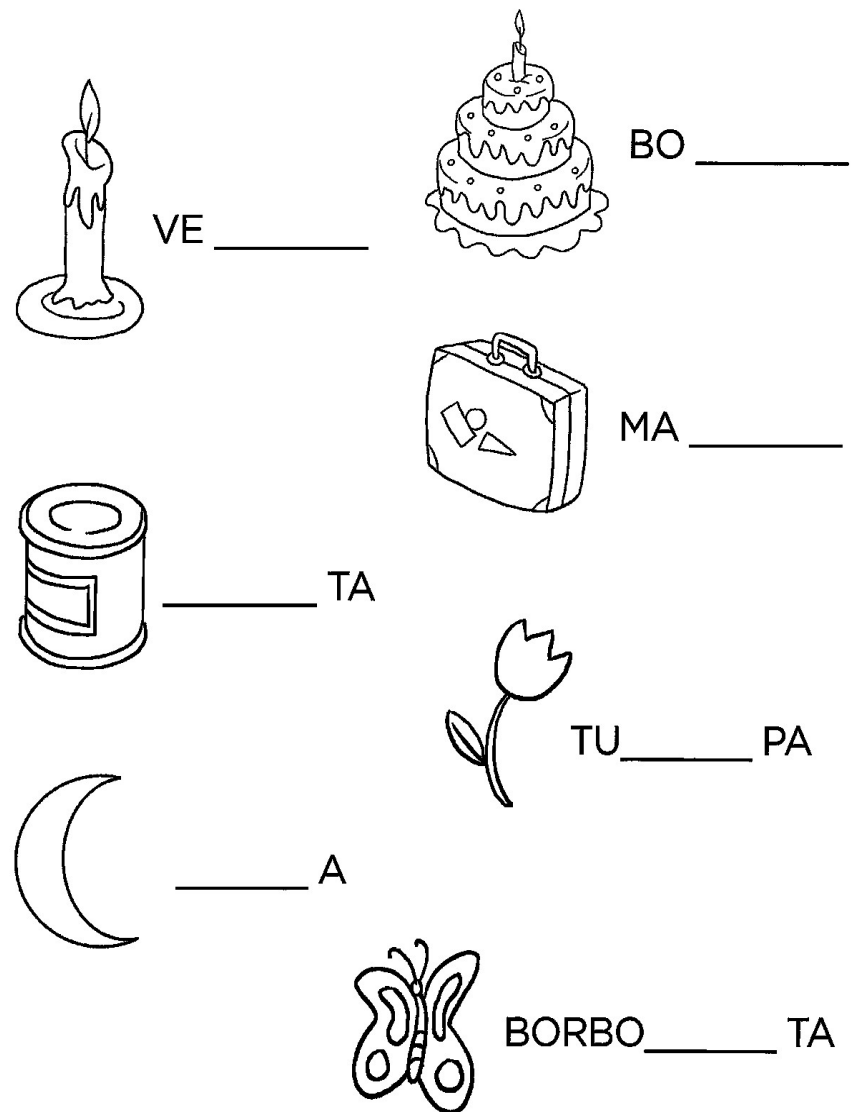
---

---

---



**2-** COMPLETE AS PALAVRAS COM **LA, LE, LI, LO** OU **LU**.



VE \_\_\_\_\_

BO \_\_\_\_\_

MA \_\_\_\_\_

\_\_\_\_\_ TA

TU \_\_\_\_\_ PA

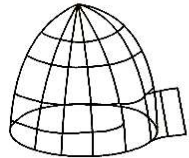
\_\_\_\_\_ A

BORBO \_\_\_\_\_ TA


PORTUGUÊS

ATIVIDADES DO 1º ANO


1- CAÇA-PALAVRAS SILÁBICO!




GAIO\_\_



BO\_\_



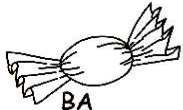
\_\_PIS



JI\_\_



GE\_\_TINA



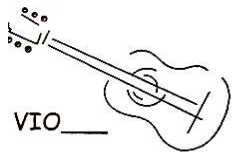
BA\_\_



MO\_\_




MA\_\_



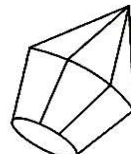
VIO\_\_



\_\_BO



\_\_ÇO



BA\_\_

BA	DA	GÃO	FE	GA	DI	A
LÃO	JO	GAI	GA	LO	LU	VA
O	BA	O	FÃO	BO	JU	BU
FU	LE	LA	E	JA	BA	LA
MO	LA	LI	DE	JI	FO	BO
U	FA	LÁ	PIS	LÓ	DU	LO
JI	LA	BE	LU	A	NE	DU
TU	ÇO	JE	VI	O	LA	GU
LU	MI	BI	FI	NA	GO	LA
MA	LA	MO	GE	LA	TI	NA



GA\_\_



\_\_A



\_\_VA

LA  
LE  
LI  
LO  
LU

2- COMPLETE A CRUZADINHA:

CRUZADINHA

### CIÊNCIAS

1. ESCREVA OS NOMES DOS ÓRGÃOS DOS SENTIDOS DE ACORDO COM A NUMERAÇÃO:



1

2

3

4

5

2- DESENHE OS ORGÃOS DOS SENTIDOS NOS LUGARES CORRETOS:



VISÃO



AUDIÇÃO



TATO



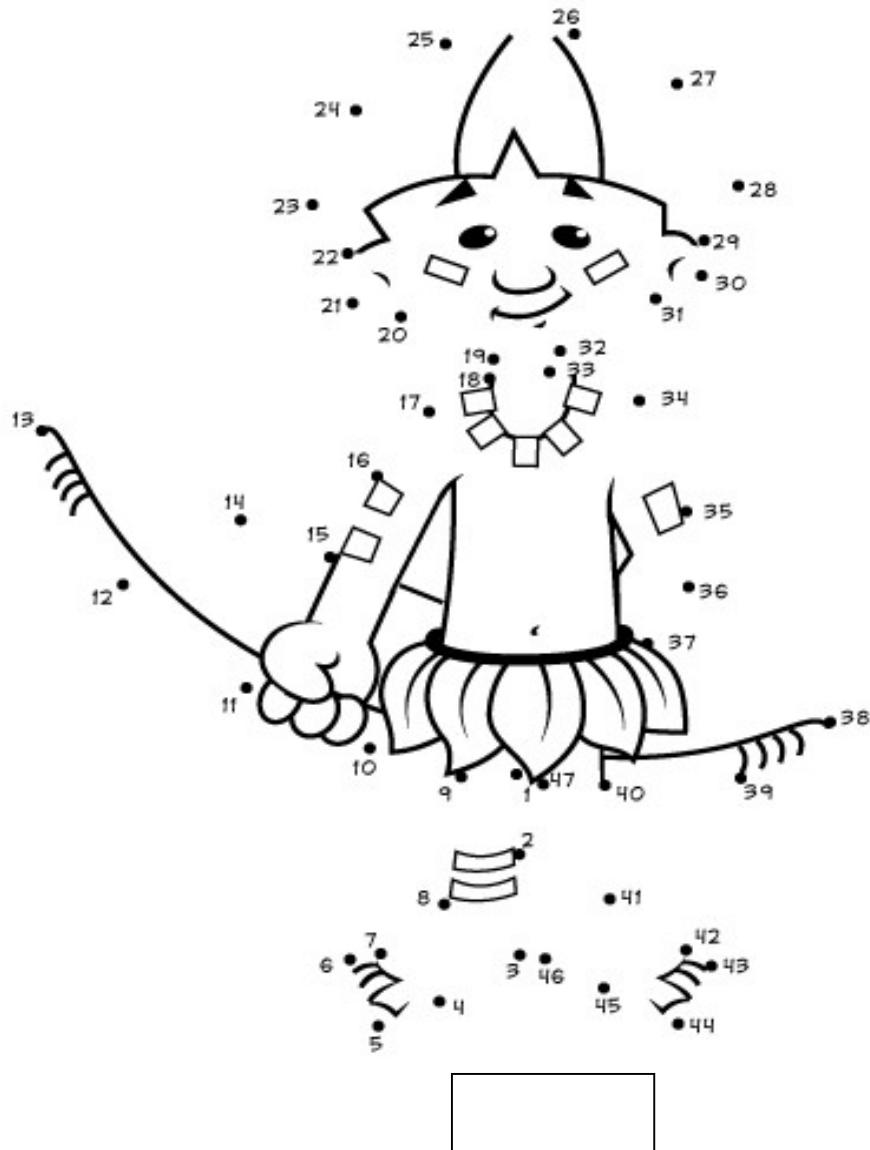
OLFATO



PALADAR

### ARTES

1 - LIGUE OS PONTOS, DESCUBRA A FIGURA E ESCREVA O NOME ABAIXO:



### ENSINO RELIGIOSO

#### TIJOLO DA CORAGEM

1-JESUS CRISTO É O MURO QUE NOS PROTEGE!  
COMPARE AS FIGURAS ABAIXO E ENCONTRE SETE  
DIFERENÇAS ENTRE ELAS:



### HISTÓRIA

#### TIRADENTES

O DIA 21 DE ABRIL É COMEMORADO COMO O DIA DE TIRADENTES.

VOCÊ SABE POR QUE ELE FOI PRESO E CONDENADO A FORÇA?

SIM, PORQUE ELE QUERIA LIBERTAR O BRASIL DE PORTUGUAL.

ISSO MESMO. ELE PARTICIPOU DE UM MOVIMENTO PARA LIBERTAR O NOSSO POVO.

PROCURE NA CAÇA-PALAVRA, AS RESPOSTAS DAS SEGUINTE PERGUNTAS:

Q	F	A	B	R	I	L	X	Y	Z
T	I	R	A	D	E	N	T	E	S
R	E	N	F	O	R	C	A	D	O
P	O	R	T	U	G	A	L	Z	P

TIRADENTES - ABRIL - FORÇA - PORTUGAL

1-SOBRE O QUE AS CRIANÇAS ESTAVAM CONVERSANDO?

\_\_\_\_\_

2- QUAL O MÊS QUE COMEMORAMOS O DIA DE TIRADENDES?

\_\_\_\_\_

3- COMO ELE MORREU? \_\_\_\_\_

4 - ELE QUERIA LIBERTAR O BRASIL DE QUAL PAÍS?

\_\_\_\_\_

1 - DECIFRE O ENIGMA E DESCUBRA O VERDADEIRO NOME DE TIRADENTES:

J=	■	A=	◻	O=	□	I=	◐	S=	▮	D=	▯	X=	◑
Q=	◓	U=	◑	M=	◓	V=	◑	L=	▮	R=	▯	E=	◓



■	□	◐	◑	▮	▯	◓	◑



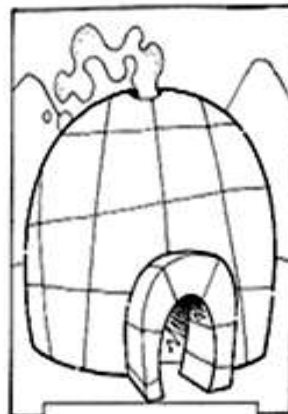


■	□	▯	◓	▯	◐

▯	◐	▮	◑	▯

◓	◐	◑	▮	◓	▯

## GEOGRAFIA

1-LIGUE CADA CRIANÇA A SUA CASA, E ESCREVA O NOME DE CADA UMA DELAS:



CABANA – IGLU – CASA - OCA

2 - QUAL CASA MAIS SE PARECE COM A SUA? MARQUE COM UM X



DESENHE SUA CASA, E EM SEGUIDA PINTE:



MATEMÁTICA

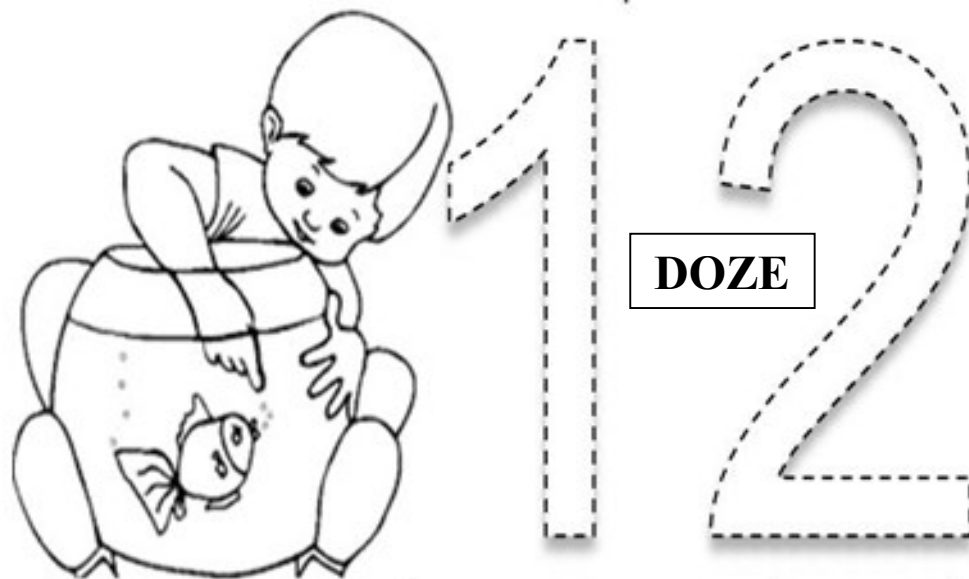
1- Vamos escrever com bastante capricho o número!



11				
11				
11				
11				

NOME	
------	--

2- Vamos escrever com bastante capricho o número!



12				
12				
12				
12				

NOME	
------	--