

ATIVIDADES DO 2º ANO

1) COM OS ALGARISMOS 0,1,2,3,4,5,6,7,8, E 9, PODEMOS ESCREVER QUALQUER NÚMERO. COMPLETE O QUADRO:

01									
									20
			25						
					37				
	43								
51									
				66					
							79		
									90
		94							

2) QUE NÚMERO VEM LOGO DEPOIS DO 23? _____

3) QUE NÚMERO VEM LOGO DEPOIS DO 80? _____

4) RESOLVA AS SUBTRAÇÕES:


DEZENA	UNIDADE	DEZENA	UNIDADE	DEZENA	UNIDADE	DEZENA	UNIDADE	DEZENA	UNIDADE
6	5	8	3	7	9	1	4	9	0
-2	1	-7	0	-6	4	-0	4	-5	0

OS NÚMEROS PRIMEIRO, SEGUNDO, TERCEIRO, QUARTO, QUINTO, SEXTO, SÉTIMO, OITAVO, NONO E DÉCIMO SÃO USADOS PARA INDICAR ORDEM.

5) ESCREVA COMO SE LÊ:

1º _____	2º _____
3º _____	4º _____
5º _____	6º _____
7º _____	8º _____
9º _____	10º _____

6) OBSERVE A FILA E RESPONDA:



A) O MENINO DE BONÉ OCUPA O _____ LUGAR NA FILA.

B) A MENINA DE SAIA OCUPA _____ LUGAR.

C) A MULHER DE SOMBRINHA OCUPA O _____ LUGAR.

D) O SR. QUE ESTÁ DE TERNO E GRAVATA OCUPA _____ LUGAR.
























E) O MENINO COM CARRINHO OCUPA O _____ LUGAR.

F) O DONO DO CACHORRO É O _____ DA FILA.

G) A MOÇA DE ÓCULOS OCUPA O _____ LUGAR DA FILA.

PORTUGUÊS

1) ESCREVA O NOME DOS DESENHOS EM ORDEM ALFABÉTICA:

a.....

b.....

c.....

d.....

e.....

f.....

g.....

h.....

i.....

j.....

l.....

m.....

n.....

o.....

p.....

q.....

r.....

s.....

t.....

u.....

v.....

w.....

x.....

y.....

PORTUGUÊS

1) Leia o texto e circule os dias da semana

Semana

Sete dias a semana tem
Quando acaba outro logo vem.
Sete dias a semana tem,
Quando acaba
Outro logo vem.
Domingo,
Segundo,
Terça-feira
Quarta-feira
Quinta-feira.
Sexta- feira.
Sábado
Que bom



1) Marque quantos dias formam uma semana

() 15 () 7 () 10





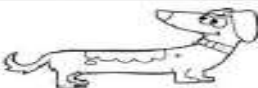


2) Agora, escreva em ordem os dias da semana que você circului.

- 1º _____
2º _____
3º _____
4º _____
5º _____
6º _____
7º _____

3) Complete as palavras com ba, be, bi, bo, bu:

	JA		TI		LO	
	A		CA XI		U	RU
	A		LHA		CE	LA
	CA		DE		CA	LO


4) Pinte as bolinhas de acordo com o número de sílabas de cada figura:

	<input type="radio"/>	<input type="radio"/>	<input type="radio"/>	<input type="radio"/>	<input type="radio"/>	<input type="radio"/>	<input type="radio"/>
	<input type="radio"/>	<input type="radio"/>	<input type="radio"/>	<input type="radio"/>	<input type="radio"/>	<input type="radio"/>	<input type="radio"/>
	<input type="radio"/>	<input type="radio"/>	<input type="radio"/>	<input type="radio"/>	<input type="radio"/>	<input type="radio"/>	<input type="radio"/>
	<input type="radio"/>	<input type="radio"/>	<input type="radio"/>	<input type="radio"/>	<input type="radio"/>	<input type="radio"/>	<input type="radio"/>
	<input type="radio"/>	<input type="radio"/>	<input type="radio"/>	<input type="radio"/>	<input type="radio"/>	<input type="radio"/>	<input type="radio"/>
	<input type="radio"/>	<input type="radio"/>	<input type="radio"/>	<input type="radio"/>	<input type="radio"/>	<input type="radio"/>	<input type="radio"/>
	<input type="radio"/>	<input type="radio"/>	<input type="radio"/>	<input type="radio"/>	<input type="radio"/>	<input type="radio"/>	<input type="radio"/>

IPIRANGA DO NORTE, 24/31 DE MARÇO DE 2021.
QUARTA-FEIRA. CIÊNCIAS
CUIDADOS COM O SOL

O **SOL** É ESSENCIAL À **VIDA**, É **SAÚDAVEL** TOMAR SOL, MAS O MELHOR MOMENTO PARA APROVEITÁ-LO É PELA **MANHÃ**, ATÉ AS 10 HORAS NO MÁXIMO, E A **TARDE** APÓS ÀS 16 HORAS, SEMPRE USANDO **PROTETOR** SOLAR. É MUITO IMPORTANTE EVITAR A EXPOSIÇÃO AO SOL ENTRE AS 10 E AS 16 HORAS. NESSE PERÍODO O SOL É MUITO FORTE! PARA SE PROTEGER, ALGUMAS DICAS, USAR **CHAPÉU** OU **BONÉ**, FICAR NA **SOMBRA** E BEBER BASTANTE **LÍQUIDO** PARA SE MANTER **HIDRATADO**.

- 1) VAMOS ENCONTRAR NO DIAGRAMA AS PALAVRAS GRIFADAS DO TEXTO ACIMA;



- 2) EM QUAL HORÁRIO NÃO DEVEMOS NOS EXPOR AOS RAIOS DO SOL PARA PROTEGER A PELE DO NOSSO CORPO.

DAS 12 AS 14 HORAS

DAS 7 ÀS 10 HORAS

DAS 10 AS 16 HORAS

DAS 11 AS 14 HORAS

- 3) PARA PROTEGER A CABEÇA E O CABELO DOS RAIOS SOLARES PARA PROTEGER O QUE DEVEMOS USAR? DESENHE.



- 4) PINTE O PRODUTO QUE É MUITO IMPORTANTE PARA NOS PROTEGER DOS RAIOS DO SOL.



ESMALTE



CREME DENTAL



SHAMPOO




PROTETOR SOLAR

IPIRANGA DO NORTE, 24/31 DE MARÇO DE 2021.
QUARTA-FEIRA.

ARTES

AS PAISAGENS PODEM SER REPRESENTADAS DOS
MAIS DIVERSOS TIPOS NAS MAIS DIFERENTES
LINGUAGENS ARTÍSTICAS.

1) QUE TAL ENTÃO CRIAR UMA PAISAGEM VISUAL
POR MEIO DE **DESENHO** DO LUGAR ONDE VOCÊ
MORA:



ENSINO RELIGIOSO



CRESCENDO COM O OUTRO
CRESCIMENTO NA FAMÍLIA
NA FAMÍLIA, APRENDEMOS AS PRIMEIRAS LIÇÕES DA VIDA.
COM ELA, PODEMOS CRESCER, NÃO SÓ NO TAMANHO, MAS
EM CONHECIMENTO E ATITUDE.

1) ASSINALE O QUE VOCÊ FAZ PARA AJUDAR EM CASA:



HISTÓRIA


EU NO TEMPO

NÃO TEMOS COMO TOCAR NO TEMPO, NEM ENXERGÁ-LO, MAS SABEMOS QUE ELE EXISTE POR CAUSA DAS TRANSFORMAÇÕES QUE OCASIONA NOS SERES VIVOS E TAMBÉM EM TUDO O QUE EXISTE NO MUNDO.

AS FIGURAS ABAIXO REPRESENTAM AS VÁRIAS ETAPAS POR QUE UMA PESSOA PASSA DURANTE A VIDA.

1- RECORTE AS FIGURAS E COLE-AS NA SEQUÊNCIA

--	--	--	--



VAMOS FAZER UMA LINHA DO TEMPO?

VOCÊ VAI DESENHAR A SUA HISTÓRIA DE VIDA, DESDE SEU NASCIMENTO. COLOQUE DATA, DESENHE VOCÊ EM CADA FASE.

MEU NASCIMENTO

DATA	COMO EU ERA	COISAS QUE FAZIA


EU COM UM ANO

DATA	COMO EU ERA	COISAS QUE FAZIA


A PAISAGEM

OBSERVANDO A PAISAGEM NO TRAJETO ATÉ A ESCOLA, VEMOS VÁRIOS ELEMENTOS. ALGUNS SÃO NATURAIS, OU SEJA, DA PRÓPRIA NATUREZA, OUTROS SÃO CULTURAIS, POIS FORAM PRODUZIDOS PELO SER HUMANO

1) CIRCULE O QUE NÃO É NATURAL NESTA PAISAGEM, OU SEJA, FOI CONSTRUÍDO PELAS PESSOAS.



2) PINTE APENAS OS ELEMENTOS NATURAIS:



3) O QUE FAZ PARTE DA PAISAGEM DO LUGAR ONDE VOCÊ MORA? PINTE OS QUADRINHOS:

RUAS	<input type="checkbox"/>	PONTE	<input type="checkbox"/>	LOJAS	<input type="checkbox"/>
TÚNEL	<input type="checkbox"/>	RIO	<input type="checkbox"/>	ESTRADA	<input type="checkbox"/>
MONTANHA	<input type="checkbox"/>	ANIMAIS	<input type="checkbox"/>	EDIFÍCIOS	<input type="checkbox"/>
CASAS	<input type="checkbox"/>	LAGO	<input type="checkbox"/>	ÁRVORES	<input type="checkbox"/>
MAR	<input type="checkbox"/>	PRAÇA	<input type="checkbox"/>	PASTO	<input type="checkbox"/>

4) O QUE TEM MAIS?

() ELEMENTOS DA PAISAGEM NATURAL.

() ELEMENTOS CONSTRÍDOS PELO HOMEM.

5) PINTE A PAISAGEM;

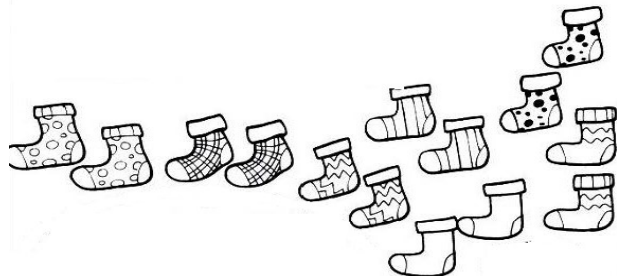


PAR ou ÍMPAR

1) CIRCULE OS PARES DE MEIA E RESPONDA:

A) QUANTAS MEIAS EXISTEM ABAIXO? _____

B) QUANTOS PARES DE MEIAS VOCÊ FORMOU? _____



VEJA QUE NÃO SOBROU NENHUMA MEIA. ISSO ACONTECE PORQUE 14 É UM NÚMERO PAR.


COM 13 MEIAS PODEMOS FORMAR 6 PARES E AINDA SOBRA UMA.

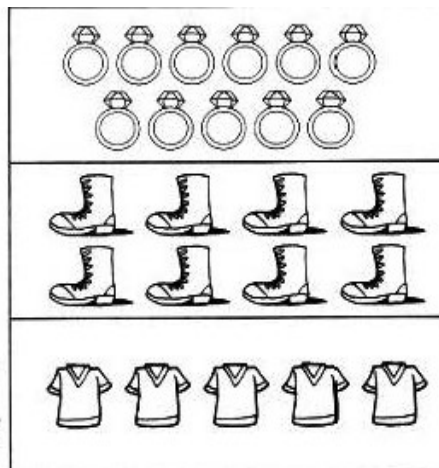
ISSO ACONTECE PORQUE 13 É UM NÚMERO ÍMPAR.

2) AGORA CONTINUE AGRUPANDO DE 2 EM 2 E DESCUBRA SE OS DESENHOS ESTÃO AOS PARES OU AOS ÍMPARES:

A) 11 é

B) é

 C) é



3) PARA CADA QUANTIDADE ABAIXO, FAÇA GRUPO DE DUAS UNIDADES E ESCREVA SE É PAR OU ÍMPAR.

