

IPIRANGA DO NORTE, 15 DE MARÇO DE 2021.

SEGUNDA-FEIRA.

7ª SEMANA

ALUNO (A): _____

PROFESSORA: _____ ATIVIDADES DO 2º ANO _____

1) PROCURE, NO QUADRO, OS FATOS DE ADIÇÃO JUNTAMENTE COM OS RESULTADOS. DEPOIS, PINTE-OS E ESCREVA OS RESULTADOS NOS CÍRCULOS ABAIXO. OBSERVE O MODELO



	4	4	8	3	1	4
3	2	5		4	2	6
	1	5	6		4	
3		4		7	1	8
4	5	3	8	2	3	7
7	3	6	2	8		4
2	5	7	4	6	8	6

$3 + 1 = 4$

$1 + 5 = \bigcirc$

$5 + 3 = \bigcirc$

$3 + 2 = \bigcirc$

$7 + 1 = \bigcirc$

$6 + 2 = \bigcirc$

$4 + 2 = \bigcirc$


$2 + 5 = \bigcirc$

$4 + 4 = \bigcirc$

MATEMÁTICA



2) PINTE UMA DÚZIA DE SORVETES:



RESPONDA:

3) QUANTOS SORVETES VOCÊ PINTOU? _____

4) QUANTOS SORVETES FICARAM SEM PINTAR? _____

5) QUANTOS SORVETES FALTAM PARA COMPLETAR 20? _____

6) RESOLVA AS ADIÇÕES COM ATENÇÃO:

44	53	32	25	47	56
$+12$	$+14$	$+24$	$+23$	$+21$	$+23$
<input type="text"/>	<input type="text"/>	<input type="text"/>	<input type="text"/>	<input type="text"/>	<input type="text"/>

7) COLOQUE O NÚMERO QUE VEM ANTES E DEPOIS:

	27	
	15	
	9	
	22	
	10	

	6	
	29	
	35	
	17	
	5	

IPIRANGA NORTE, 16 DE MARÇO DE 2021.

TERÇA-FEIRA

1) ESCREVA O NOME DOS DESENHOS:














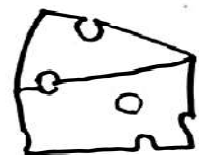
















PORTUGUÊS

LEIA E RESPONDA:

LAURA COMPROU UM BOLO DE CHOCOLATE PARA COMEMORAR O ANIVERSÁRIO DE 10 ANOS DO FELIPE.

2) LAURA COMPROU:

() PIZZA () BOLO () BEXIGAS () BOLACHA

3) QUAL O SABOR DO BOLO?

4) QUANTOS ANOS FELIPE ESTÁ COMPLETANDO?

5) MARQUE AS PALAVRAS QUE INICIAM COM A MESMA **SÍLABA** INICIAL DA PALAVRA **BOLO**:

- () BOCA
- () BEBÊ
- () DADO
- () BONÉ
- () PEIXE
- () BANANA
- () BONECA



O SOL: FONTE DE ENERGIA



O SOL É UMA ESTRELA QUE POSSUI LUZ PRÓPRIA. ELE É DE FUNDAMENTAL IMPORTÂNCIA PARA OS SERES VIVOS, FORNECE LUZ, CALOR E ENERGIA. TODOS OS SERES VIVOS DEPENDEM DA LUZ DO SOL PARA SOBREVIVER, SEM ELE NÃO HAVERIA VIDA NA TERRA. NÃO EXISTIRIAM PLANTAS NEM ANIMAIS.

ATIVIDADES:

1) MARQUE ALTERNATIVA CORRETA:

- () O SOL É UMA ESTRELA E POSSUI LUZ PRÓPRIA.
- () O SOL É UMA ESTRELA E NÃO POSSUI LUZ PRÓPRIA.
- () O SOL NÃO É UMA ESTRELA.


2) DE ACORDO COM O TEXTO COMPLETE AS LACUNAS:

- A) O SOL É UMA _____, QUE POSSUI _____.
- B) ELE É DE FUNDAMENTAL IMPORTÂNCIA PARA OS SERES _____, FORNECE _____, _____ E _____.

3) COMO VIMOS NO TEXTO OS SERES VIVOS DEPENDEM DA LUZ DO SOL PARA SOBREVIVER, SENDO ASSIM PROCURE NO QUADRO ABAIXO NOMES DE SERES VIVOS E NÃO VIVOS CONFORME OS DESENHOS.



G	A	T	O	E	P	F	G	H
I	J	C	A	N	E	T	A	K
L	M	N	O	P	D	Q	R	S
C	A	C	H	O	R	R	O	U
B	A	L	Ã	O	A	V	X	Y
W	B	O	N	E	C	A	Z	A
C	D	S	A	P	O	E	F	G
H	I	M	E	N	I	N	A	J
K	L	M	N	O	P	Q	R	S



4) ESCREVA OS NOMES DOS SERES VIVOS:


5) ESCREVA OS NOMES DOS SERES NÃO-VIVOS:

**IPIRANGA DO NORTE, 17 DE MARÇO DE 2021.
QUARTA-FEIRA. ARTES**

UM MUNDO MELHOR

(Domínio público)

FORMAS GEOMÉTRICAS
1- PINTE AS FORMAS GEOMÉTRICAS IGUAIS COM A MESMA COR. SIGA A LEGENDA ABAIXO.



PARA SER FELIZ É PRECISO VER
ESTE CÉU AZUL NA IMENSIDÃO
É FAZER DAS TRISTEZAS
ESTRELAS A MAIS
E DO PRANTO UMA CANÇÃO

HÁ UM MUNDO BEM MELHOR
TODO FEITO PRÀ VOCÊ
É UM MUNDO PEQUENINO
QUE A TERNURA FEZ



- 1) FAÇA UM DESENHO QUE MOSTRA COMO SERIA UM MUNDO MELHOR PARA VOCÊ.



OBSERVE AS MUDANÇAS QUE ACONTECEM COM O TEMPO E O CORPO HUMANO. LEIA AS ATIVIDADES E RESPONDA O QUE SE PEDE.

- 1) DESENHE NOS CÍRCULOS, OS ROSTOS DAS PESSOAS DA SUA CASA COM IDADES DIFERENTES. DEPOIS, ESCREVA O NOME DELAS E RESPONDA ÀS PERGUNTAS ABAIXO.



- A) QUEM É O MAIS NOVO? _____
B) QUEM É O MAIS VELHO? _____
C) QUEM NASCEU PRIMEIRO? _____
D) QUEM NASCEU POR ÚLTIMO? _____
E) ESCREVA TRÊS COISAS QUE O BEBÊ FAZ E VOCÊ NÃO FAZ.

- F) AGORA, ESCREVA TRÊS COISAS QUE VOCÊ FAZ E O BEBÊ NÃO FAZ.

FASES DA VIDA

COM O PASSAR DO TEMPO NÓS CRESCEMOS E NOSSO CORPO SE MODIFICA. PASSAMOS POR DIFERENTES FASES NA VIDA: (CRIANÇA, ADULTO E IDOSO).

- 2) DESCUBRA EM QUE FASE DA VIDA ESTÁ CADA PERSONAGEM E RELACIONE CORRETAMENTE.



- A) ESTOU NA FASE EM QUE MEU CORPO APRESENTA MUITAS LIMITAÇÕES. TENHO MUITAS EXPERIÊNCIAS QUE CONSEGUI AO LONGO DA VIDA.
B) SAI DA ADOLESCÊNCIA, TRABALHO E CONHEÇO MINHAS RESPONSABILIDADES.
C) ESTOU COMEÇANDO A CONHECER O MUNDO E ESTOU EM CRESCIMENTO.

- 3) ESCREVA CADA FASE QUE SE ENCONTRAM ESSES PERSONAGENS.

**IPIRANGA DO NORTE, 18 DE MARÇO DE 2021.
QUINTA-FEIRA GEOGRAFIA**

TODOS OS DIAS, MUITAS PESSOAS SE DESLOCAM DE UM LUGAR A OUTRO, REALIZANDO DIFERENTES TRAJETOS. VOCÊ TAMBÉM, PARA CHEGAR ATÉ A ESCOLA PERCORRE UM CAMINHO CHEIO DE VÁRIOS ELEMENTOS.


LEIA AS ATIVIDADES E RESPONDA:

O CAMINHO DA ESCOLA

1) PINTE OS QUADRINHOS QUE CONTÊM COISAS QUE VOCÊ VÊ NO CAMINHO DE CASA PARA A ESCOLA:



2) CUBRA COM LÁPIS DE COR O CAMINHO QUE TIAGO



IPIRANGA DO NORTE, 19 DE MARÇO DE 2021.

SEXTA-FEIRA

1) LEIA O NÚMERO DE CADA PLACA E ESCREVA-OS.



DEZOITO



VINTE



DOZE



CINCO



QUINZE



UM



DEZ



SEIS

2) COMPLETE OS NÚMEROS QUE ESTÃO FALTANDO.

1			4				8		
	12								

3) COMPLETE A TABELA COM O NOME DOS NÚMEROS. SIGA O MODELO.

42- QUARENTA E DOIS

27- _____

48- _____

52- _____

33- _____

14- _____

55- _____

MATEMÁTICA

4) COMPLETE A TABELA.

1	2	3	4	5	6	7	8	9	10
11			14				18		
21						27			30
31		33							
41					46			49	

5) ESCREVA O SUCESSOR E ANTECESSOR DOS NÚMEROS A SEGUIR.

___ 5 ___

___ 30 ___

___ 11 ___

___ 44 ___

___ 21 ___

___ 16 ___

