


SEGUNDA-FEIRA.

ALUNO (A): _____

PROFESSORA: _____ ATIVIDADES DO 2º ANO _____

1. ASSINALE O QUADRINHO QUE CORRESPONDE AO BALÃO EM QUE HÁ APENAS LETRAS.



A)



B)



C)



D)

2. FAÇA UM X NO QUADRINHO QUE CORRESPONDE AO NOME DO QUE ESTÁ REPRESENTADO NO DESENHO.



A) BOLO

B) BOLA

C) BONECO

D) CASA

3. FAÇA UM X NO QUADRINHO QUE CORRESPONDE À LETRA INICIAL DO OBJETO DESENHADO.

A) C

B) B

C) J

D) P



PORTUGUÊS

4. FAÇA UM X NO QUADRINHO QUE CORRESPONDE À PRIMEIRA SÍLABA DA PALAVRA ABAIXO.

MOCHILA

A) MO

B) MOCH

C) MOC

D) MOCHI

5. FAÇA UM X NO QUADRINHO EM QUE ESTÁ ESCRITA A SEGUINTE PALAVRA:

ANIVERSÁRIO

A) aniversário

B) alfabeto

C) funcionário

D) bancário

6. MARQUE UM X NA ALTERNATIVA QUE CONTA O QUE O MENINO ESTÁ FAZENDO.



A) O MENINO JOGA BOLA.

B) A MENINA ESTÁ LENDO.

C) O MENINO ESTÁ LENDO.

D) O MENINO ESTÁ CORRENDO.

IPIRANGA DO NORTE, 08 DE FEVEREIRO DE 2021.

SEGUNDA-FEIRA.

7. LEIA O TEXTO;



QUAL É O TÍTULO DO LIVRO?

- A) O MENINO
- B) WALTHER MOREIRA SANTOS
- C) O AEROCULUBE
- D) MATEUS RIOS

8. LEIA O TEXTO.

INFÂNCIA

MEU PAI MONTAVA A CAVALO, IA PARA O CAMPO.
MINHA MÃE FICAVA SENTADA COSENDO.
MEU IRMÃO PEQUENO DORMIA.
EU SOZINHO MENINO ENTRE MANGUEIRAS
LIA A HISTÓRIA DE ROBINSON CRUSOÉ,
COMPRIDA HISTÓRIA QUE NÃO ACABAVA MAIS.

PORTUGUÊS



O QUE O MENINO FAZIA ENQUANTO SEU IRMÃO DORMIA?

- A) IA PARA O CAMPO COM O PAI.
- B) AJUDAVA A MÃE A COSTURAR.
- C) CUIDAVA DO IRMÃO.
- D) LIA UMA HISTÓRIA.

9. LEIA O INÍCIO DE UMA NOTÍCIA.

COMO A CHINA CONSEGUIU SALVAR OS PANDAS GIGANTES DA EXTINÇÃO

ELES SÃO SUPERFOFOS E ACABAM DE SER SALVOS DA EXTINÇÃO. OS PANDAS GIGANTES FORAM RETIRADOS DA LISTA DE ESPÉCIES AMEAÇADAS EM GRANDE PARTE POR CAUSA DO ESFORÇO DOS AMBIENTALISTAS CHINESES.

BBC BRASIL. *Como a China conseguiu salvar os pandas gigantes da extinção.*
Disponível em: <<http://g1.globo.com/natureza/noticia/2016/09/como-a-china-conseguiu-salvar-os-pandas-gigantes-da-extincao.html>>.
Acesso em: 11 out. 2016.

QUAL É A FINALIDADE DESSE TEXTO?

- A) APRESENTAR INFORMAÇÕES SOBRE OS PANDAS.
- B) CONTAR UMA HISTÓRIA.
- C) ENSINAR A SALVAR OS PANDAS.
- D) DESCREVER OS PANDAS.

1. AS CRIANÇAS VÃO JOGAR BOLA.



QUANTAS CRIANÇAS VÃO JOGAR?

- A) 5
- B) 6
- C) 7
- D) 8


2. PAULA COMPROU 5 BALAS E DEU 2 PARA SUA AMIGA.



QUANTAS BALAS SOBRARAM PARA PAULA?

- A) 1
- B) 2
- C) 3
- D) 4

3. AS CRIANÇAS ESTÃO NA FILA PARA O RECREIO. BIA É A TERCEIRA.



QUAL É A POSIÇÃO NA FILA DA CRIANÇA QUE ESTÁ SEGURANDO A BOLA?

- A) SEGUNDA.
- B) PRIMEIRA.
- C) QUARTA.
- D) TERCEIRA.


4. RICARDO É PAI DE ANA.



A IDADE DE RICARDO PODE SER ESCRITA ASSIM:

- A) VINTE E SETE.
- B) VINTE E DOIS.
- C) TRINTA E SETE.
- D) DEZESSETE.

5. EM UMA SALA DE AULA, HÁ 7 MENINAS E 3 MENINOS.



QUAL É O TOTAL DE ALUNOS DESSA SALA DE AULA?


- A) 3
- B) 4
- C) 6
- D) 10

6. ANA GANHOU ESTE BRINQUEDO DO AVÔ:




A FORMA DESSE BRINQUEDO SE ASSEMELHA A:

A)



C)




B)



D)



7. OBSERVE A SEQUÊNCIA NUMÉRICA:



QUE NÚMERO ESTÁ FALTANDO PARA COMPLETAR ESSA SEQUÊNCIA?

A) 21

C) 15

B) 9

D) 19

8. VEJA A FIGURA QUE CAIO DESENHO:


CAIO DESENHO UM:

A) CÍRCULO.


B) QUADRADO.

C) TRIÂNGULO.

D) RETÂNGULO.



9. OBSERVE AS AMIGAS DE DENISE:



NA CAMISETA DA MENINA MAIS ALTA, APARECE A LETRA:

A) A

C) C

B) B

D) D

10. VEJA OS PALITOS DE PICOLÉ QUE CADA CRIANÇA VAI USAR:

| NOME | QUANTIDADE DE PALITOS |
|---------|---|
| LUCIANE |  |
| PEDRO |  |
| JAIR |  |
| MARINA |  |

QUEM VAI USAR MAIS PALITOS É:

A) PEDRO.

C) MARINA.

B) JAIR.

D) LUCIANE.

LEIA E RESPONDA:

A GIRAFA É O ANIMAL MAIS ALTO DO MUNDO. ELA PODE MEDIR MAIS DE 5 METROS. O QUE MAIS CHAMA A ATENÇÃO NELA É SEU PESCOÇO. ESSES ANIMAIS NÃO BEBEM ÁGUA DIARIAMENTE.

1- QUAL É O ANIMAL MAIS ALTO DO MUNDO?

2- QUANTOS METROS A GIRAFA PODE MEDIR?

3- O QUE MAIS CHAMA ATENÇÃO NA GIRAFA?

4- OBSERVE A PALAVRA **GIRAFA** E RESPONDA:

A) QUANTAS SÍLABAS? _____















B) QUAL É A SÍLABA INICIAL? _____

C) QUAL É A SÍLABA FINAL? _____














D) QUAL É A SÍLABA MEDIANA? _____

5- USE A CRIATIVIDADE, CRIE UMA FRASE COM A PALAVRA **GIRAFA**:

IPIRANGA DO NORTE, 11 DE FEVEREIRO DE 2021.
QUINTA-FEIRA

| | | | | | | | | | |
|---|---|---|---|---|---|---|----|---|--|
| 1 | 2 | 3 | 4 |  | 6 | 7 | 8 |  | 10 |
| 11 | 12 |  | 14 | 15 | 16 | 17 | 18 | 19 |  |
| 20 | 21 | 22 |  | 24 | 25 |  | 27 | 28 | 29 |
| 30 |  | 32 | 33 | 34 |  | 36 | 37 | 38 |  |
|  | 41 | 42 |  | 44 | 45 | 46 | 47 | 48 | 49 |
|  | 51 | 52 | 53 | 54 |  | 56 | 57 |  | 59 |
| 60 | | | | | | | | | |

Observe os números que faltam no quadro e escreva-os abaixo, observando os símbolos.

| | | | | | |
|---|-------|---|-------|---|-------|
|  | _____ |  | _____ |  | _____ |
|  | _____ |  | _____ | | |
|  | _____ |  | _____ | | |
|  | _____ |  | _____ | | |
|  | _____ |  | _____ | | |
|  | _____ |  | _____ | | |

MATEMÁTICA

BRANCA DE NEVE COLHEU 20 MORANGOS NO POMAR. VAI ENTREGAR UM MORANGO PARA CADA UM DOS 7 ANÕES, QUE ESTAVAM TRABALHANDO. QUANTOS MORANGOS VÃO SOBRAR?



R.: _____

MARCOS TÊM UMA COLEÇÃO DE CARRINHOS ANTIGOS. QUANTOS CARRINHOS MARCOS TÊM NESTA COLEÇÃO?




- A) () 15 CARRINHOS
- B) () 10 CARRINHOS
- C) () 9 CARRINHOS
- D) () 12 CARRINHOS

ENUMERE AS FRASES DE ACORDO COM AS IMAGENS:



- () JORGE ESTÁ COM FRIO.
- () RITA SEGURA AS SACOLAS DE COMPRAS.
- () LUANA BEBE SUCO DE LARANJA.
- () O SAPO MORA NA LAGOA.
- () AS CRIANÇAS BRINCAM NO PARQUE
- () RUI ESTÁ JOGANDO BOLA.
- () NATÁLIA ADORA NADAR TODOS OS DIAS.
- () NICOLE E LÍVIA SÃO MUITO AMIGAS.



VAMOS COLAR AS QUANTIDADES DE ESTRELAS DE ACORDO COM OS NÚMEROS?



6



4



1



9



5



2

