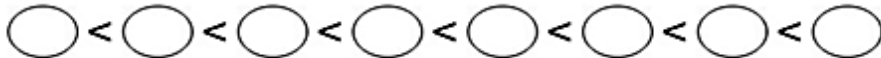
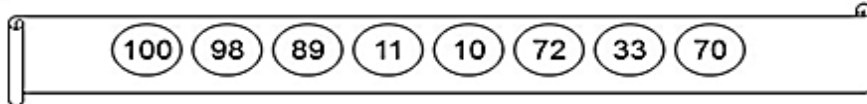


ALUNO (A): \_\_\_\_\_

PROFESSORA: \_\_\_\_\_ ATIVIDADES DO 2º ANO \_\_\_\_\_

1 Ordene os números por ordem crescente.



2 Calcule e depois complete com: >, < ou =.

$50 + 20$ _____	$40 + 35$ _____	$90 + 6$ _____	$92 + 8$ _____
$20 + 16$ _____	$10 + 26$ _____	$32 + 3$ _____	$20 + 10$ _____

3 Calcule mentalmente e ligue ao seu correspondente.



$6 + 4 + 2$



$18 - 3$



$5 + 3 + 2$



4 Escreva os números vizinhos.

$\square$  59  $\square$

$\square$  71  $\square$

$\square$  85  $\square$

$\square$  66  $\square$

$\square$  98  $\square$

$\square$  32  $\square$


5 Calcule as subtrações e adições abaixo.

$9 + 8 = \square$	$70 + 15 = \square$	$15 - 7 = \square$
$9 + 8 = \square$	$94 + 6 = \square$	$34 - 4 = \square$
$9 + \square = 36$	$93 - \square = 90$	$52 - \square = 50$

6 Calcule:

$78 + 19$	$45 + 34$	$69 - 15$	$88 - 19$
d u	d u	d u	d u
+	+	-	-
_____	_____	_____	_____

7 Resolva a situação problema abaixo.

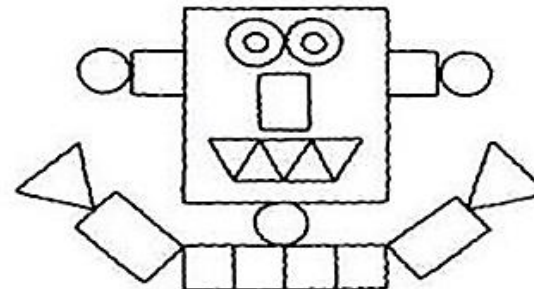


O lado direito da árvore de natal colocaram 16 prendas e do lado esquerdo 19. Quantas prendas colocaram na árvore?

R: \_\_\_\_\_

8- Pinte de acordo com o indicado na legenda

VERDE  
  VERMELHO  
  AMARELO  
  AZUL  
 AGORA CONTE QUANTAS PEÇAS HÁ EM CADA FIGURA E REGISTRE AO LADO



<span style="display: inline-block; width: 15px; height: 15px; border: 1px solid black;"></span>	_____
<span style="display: inline-block; width: 15px; height: 15px; border: 1px solid black; border-radius: 50%;"></span>	_____
<span style="display: inline-block; width: 15px; height: 15px; border: 1px solid black; transform: rotate(45deg);"></span>	_____
<span style="display: inline-block; width: 15px; height: 15px; border: 1px solid black;"></span>	_____


Today is 14th of December 2020.

Teacher: Célia Monteiro

Grade: 2º. Ano \_\_\_\_\_

Student: \_\_\_\_\_

### MOVE YOUR BODY – MOVIMENTO O SEU CORPO



1. Find 6 body words in the word search.

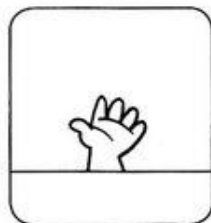
Encontre 6 palavras relacionadas às partes do corpo.

Q	W	E	R	T	Y	U	H	O	P
A	H	A	N	D	S	J	E	L	Z
X	C	V	O	N	M	L	A	O	K
N	J	I	U	T	B	V	D	Y	N
F	A	X	D	O	X	S	Z	A	E
A	R	M	R	E	A	D	G	J	E
B	C	Z	X	S	E	E	H	F	S
P	O	U	T	E	K	I	G	D	Y
Y	E	O	F	I	N	G	E	R	S
P	H	R	A	S	K	E	V	T	R



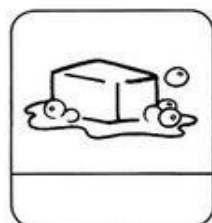







## CAÇA-PALAVRAS COM TIL (~)

1) Procure, no caça, os nomes das figuras e escreva-os nos devidos lugares.



F	O	G	Ã	O	B	X	Z	M
C	L	E	Ã	O	M	N	P	A
A	M	Ã	O	S	K	R	S	M
R	M	A	C	A	R	R	Ã	O
V	R	M	A	M	Ã	O	G	I
Ã	M	V	I	O	L	Ã	O	J
O	M	A	Ç	Ã	S	P	Ã	O
R	S	T	V	P	I	Ã	O	R
X	Z	S	A	B	Ã	O	S	V



## ESCREVENDO COM ÃO

➔ VOCÊ SABE O QUE É AUMENTATIVO? AUMENTATIVO É O GRAU QUE DESIGNA TAMANHO MAIOR OU QUALIDADE INTENSIFICADA. A MAIORIA DAS PALAVRAS, QUANDO ESTÃO NO AUMENTATIVO, TERMINA EM ÃO. VEJA ALGUNS EXEMPLOS:

CARRO = CARRÃO

MEIA = MEIÃO

VIDRO = VIDRÃO

LIVRO = LIVRÃO

➔ COMPLETE OS AUMENTATIVOS ABAIXO COM **ÃO**:

CADERNO = CADERN

BOLSA = BOLS

SAPATO = SAPAT

SOFÁ = SOFAZ

ALMOFADA = ALMOFAD



CACHORRO = CACHORR

GATO = GAT

PAPEL = PAPEL

ESTOJO = ESTOJ

PORTA = PORT



ALUNO (A): \_\_\_\_\_

PROFESSORA: \_\_\_\_\_ ATIVIDADES DO 2º ANO \_\_\_\_\_

Ligue as palavras iguais.

PICOLÉ

bolacha

BANANA

picolé

PALHAÇO

pulo

BOLACHA

bexiga

PULO

banana

BEXIGA

palhaço

PEPINO

pomada

BICICLETA


pepino

POMADA

buzina

BUZINA

bicicleta



2-AGORA REESCREVA AS PALAVRAS COM LETRA MANUSCRITA.

\_\_\_\_\_

\_\_\_\_\_

\_\_\_\_\_

\_\_\_\_\_

\_\_\_\_\_

## FORMAR

JUNTANDO AS DUAS PRIMEIRAS LETRAS DE CADA DESENHO, FORME OUTRA PALAVRA.



+



=

NO



+



=

CHE



+



=

CLETA



+



=

TA



+



=

TE

# UTILIDADES DAS PALAVRAS

☞ Descubra as frases decifrando os códigos:

A	E	I	O	U
☆	🌸	😊	♥	◇

1- P◇r😊f😊c☆m ♥ ☆r.

\_\_\_\_\_

2- F♥m🌸c🌸m ☆L😊m🌸nt♥s.

\_\_\_\_\_

3- 🌸nf😊t☆m ♥ ☆mb😊🌸nt🌸.

\_\_\_\_\_

4- F♥m🌸c🌸m m☆d😊😊r☆.


\_\_\_\_\_

5- S🌸rv🌸m d🌸 r🌸m🌸d😊♥.

\_\_\_\_\_

6- D☆♥ s♥mbr☆.


\_\_\_\_\_



**ARTE**

1- Pinte as palavras que representam o sentido do natal para você:

Natal é...



1- Leia o texto e responda a questão abaixo.

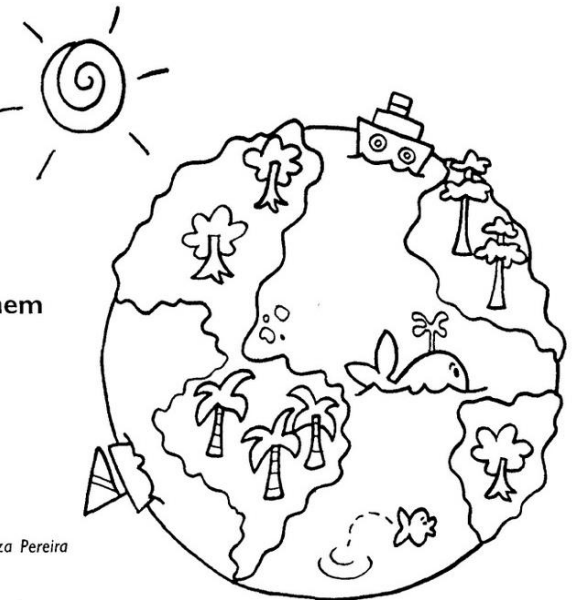


**Conversando com Deus**

**ORAÇÃO PARA A NATUREZA**

Querido Deus!  
É tão bom ver  
Este mundo  
Lindo que Tu criaste.  
Ver a natureza  
Brilhando,  
Iluminando  
Com sua graça  
Nossa vida.  
Não deixe que o homem  
Destrua com  
Sua ganância  
As maravilhas  
Que nele  
Existe.  
Obrigado, Senhor!

Rosimere de Souza Pereira



**AGORA É COM VOCÊ!**

Escreva abaixo algumas das coisas que Deus fez e que existem na natureza:

PINTANDO E APRENDENDO!

1- Utilize cores diferentes e pinte os quadros formando o nome das profissões e escreva-as. Exemplo:

CHA	FES	TOR
DEN	DI	TER
PRO	CRI	CO
RE	TIS	DOR
MÊ	VEI	TA
LE	PÔR	RO
ES	NHA	SOR

\_\_\_\_\_

\_\_\_\_\_


\_\_\_\_\_

\_\_\_\_\_

\_\_\_\_\_


\_\_\_\_\_

2- Desembaralhe as letras de casa conjunto e descubra qual profissão está escondida, exemplo




M E C Â N I C O


m e c â n i c o




\_\_\_\_\_




\_\_\_\_\_



\_\_\_\_\_



\_\_\_\_\_



\_\_\_\_\_

3- Escreva as letras iniciais de cada profissão



\_\_\_\_\_ EDREIRO                      \_\_\_\_\_ ROFESSORA                      \_\_\_\_\_ IBLIOTECÁRIA

4 - Desenhe no quadro abaixo o (a) profissional que você quer ser quando crescer.

ALUNO (A): \_\_\_\_\_

PROFESSORA: \_\_\_\_\_ ATIVIDADES DO 2º ANO \_\_\_\_\_

Olá amiguinhos, este ano não foi fácil. Deus abençoe você e sua família. Bom Natal, com Jesus no coração.



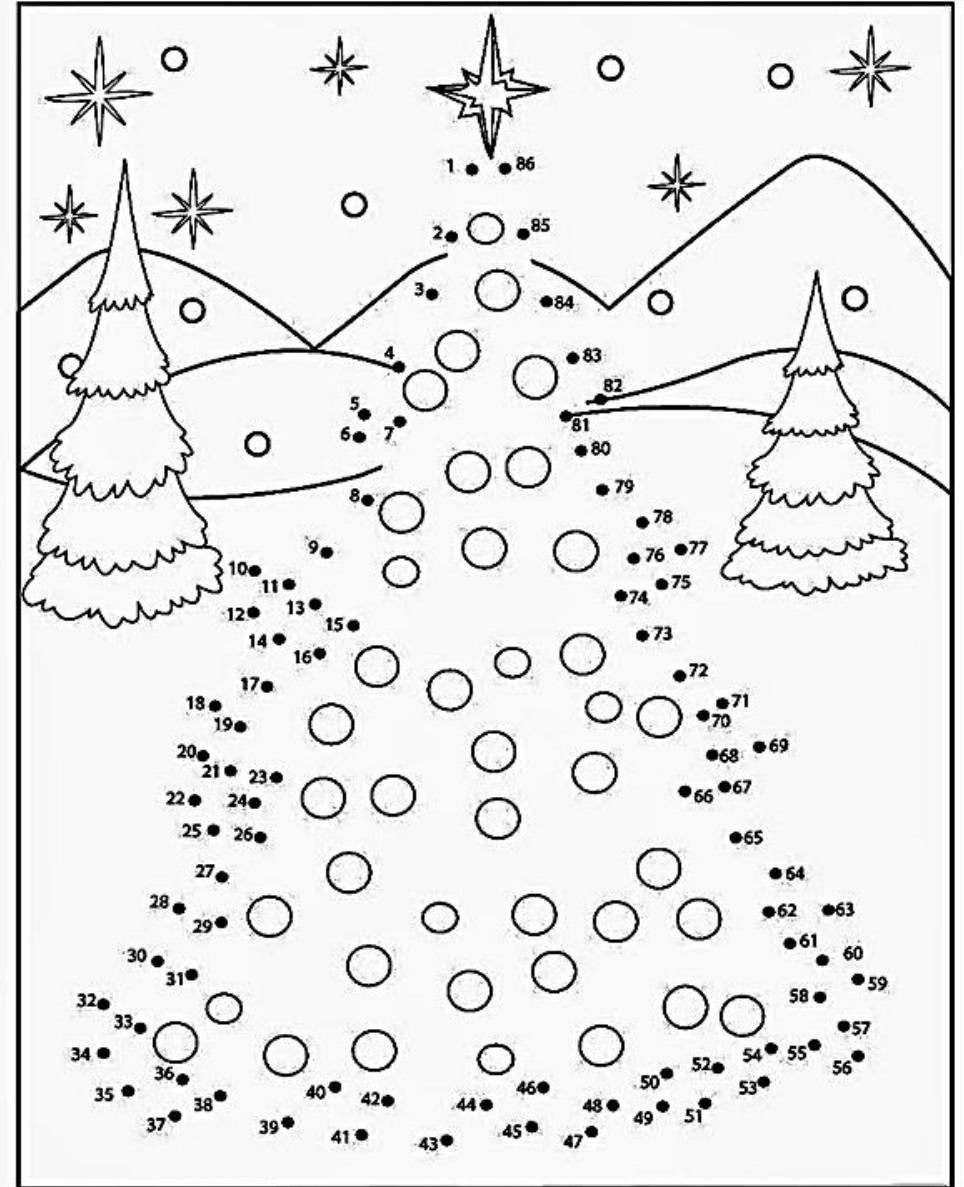
### CONTANDO E REGISTRANDO

1) CONTE E REGISTRE A QUANTIDADE DE CADA ENFEITE NA ÁRVORE DE NATAL.



A ARTE DE ENSINAR E APRENDER

LIGUE OS PONTOS E VEJA O QUE SE FORMA.




Os condutores e os pedestres devem sempre estar atentos as leis de trânsito.

1- Leia as frases com atenção e, use o quadro de palavras abaixo para completar as frases.

**SINALIZAÇÃO – AVENIDAS – TRÂNSITO – SEGUROS – CALÇADA – PASSARELAS – FAIXAS DE SEGURANÇA.**

### Deveres dos pedestres.

- a- Prestar atenção e obedecer à \_\_\_\_\_
- b- Obedecer aos policiais de \_\_\_\_\_
- c- Andar de bicicleta somente em lugares \_\_\_\_\_
- d- Caminhar sempre pela \_\_\_\_\_
- e- Utilizar as \_\_\_\_\_ para cruzar estradas e grandes avenidas.
- f- Atravessar sempre nas \_\_\_\_\_, mesmo que o trânsito esteja parado.
- g- Só atravessar as ruas e \_\_\_\_\_ com segurança, depois de olhar para os lados.



IPIRANGA DO NORTE, 18 DE DEZEMBRO 2020, SEXTA-FEIRA.

ALUNO (A): \_\_\_\_\_ ANO: \_\_\_\_\_ TURMA: \_\_\_\_\_

PROFESSOR: Luiz Cezar Tamioso Junior

Escola Municipal  
Nossa Senhora Aparecida

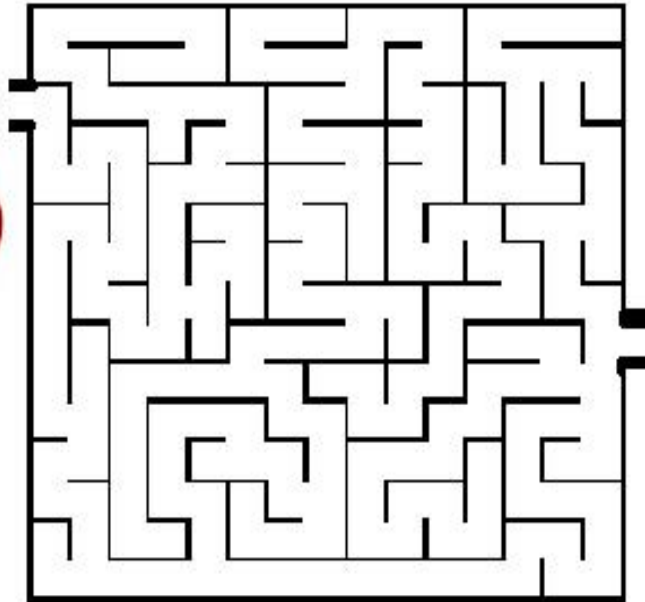


EDUCAÇÃO FÍSICA



ANIMAL NÃO É  
BRINQUEDO  
PARA SER  
ABANDONADO

1- Ajude o papai Noel a entregar alguns presentes, como um arco e flecha, um tênis de corrida, uma touca de natação.



2- Os presentes do papai Noel, como o arco e flecha, tênis de corrida, toca de natação, são utilizados para qual tipo de esporte?

( ) Arco e flecha, tênis e futebol.

( ) futebol, dardo e vôlei.

( ) Arco e flecha, Corrida e Natação .

( ) Nenhuma das alternativas.

1- Desenhe o que representa o natal para você.

