

1 – Preste atenção as continhas de adição com reagrupamento e resolva:

89 + 8 =

<b>D</b>	<b>U</b>

87 + 7 =

<b>D</b>	<b>U</b>

37 + 2 =

<b>D</b>	<b>U</b>

97 + 4 =

<b>D</b>	<b>U</b>

34 + 7 =

<b>D</b>	<b>U</b>



22 + 1 =

<b>D</b>	<b>U</b>

53 + 19 =

<b>D</b>	<b>U</b>

26 + 22 =

<b>D</b>	<b>U</b>

56 + 34 =

<b>D</b>	<b>U</b>

18 + 24 =

<b>D</b>	<b>U</b>

33 + 27 =

<b>D</b>	<b>U</b>

27 + 24 =

<b>D</b>	<b>U</b>

Confie em Deus, tudo já está passando.

**Unidade de medida de comprimento, metro, centímetro, decímetro.**

1 - Leia com atenção e responda:

Nome	Medida do comprimento
Tiago	9 palmos
Maria	7 palmos
Francisco	8 palmos



2 - Explique por que razão obtiveram medidas diferente:

\_\_\_\_\_

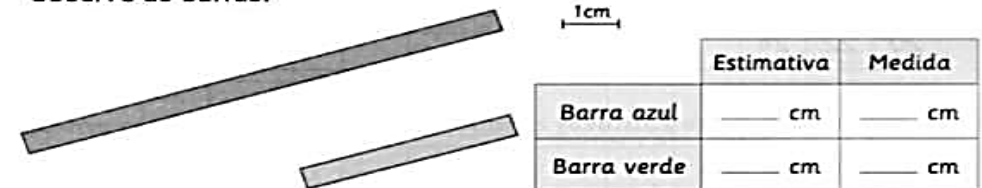
\_\_\_\_\_

3 - Quem tem o palmo menor? Por quê?

\_\_\_\_\_

\_\_\_\_\_

4 - Observe as barras:



Estime o comprimento em centímetros de cada uma das barras.

Faça a medida com uma régua e registre os valores.

5 - Escreva os números por ordem crescente:

49	7	15	31	60	17	22
----	---	----	----	----	----	----

□ < □ < □ < □ < □ < □ < □

Today is 30th of November 2020.

Teacher: Célia Monteiro

Grade: 2º. Ano \_\_\_\_\_

Student: \_\_\_\_\_

## Thanksgiving Day - Dia de Ação de Graças



O Dia de Ação de Graças, em inglês “*Thanksgiving Day*”, precede as comemorações natalinas, sendo celebrado nos Estados Unidos toda 4ª quinta-feira de novembro, e no Canadá, toda 2ª segunda-feira do mês de outubro. Em ambos locais, o Dia de Ação de Graças é considerado feriado nacional. No Brasil, esse dia foi instituído em 17 de agosto de 1949, no governo de Eurico Gaspar Dutra (Lei n.º 781), porém não é feriado e nem comemorado.


Nos Estados Unidos, o Dia de Ação de Graças foi declarado feriado nacional em 1939 pelo presidente Roosevelt, comemorado na última quinta-feira de novembro. Sua origem é de 1620, quando imigrantes ingleses comemoravam a farta colheita em uma plantação em Plymouth, Massachusetts, e convidaram os índios nativos americanos para dividir os alimentos e celebrar com eles. Esse ano, o Thanksgiving acontece em 24 de Novembro.

Curiosidade:

- A Sexta-Feira Negra (“*Black Friday*” em inglês) é um evento que ocorre após o Dia de Ação de Graças. Nesse dia, a maior parte das lojas oferecem grandes descontos e muitas pessoas aproveitam para fazer as compras de Natal.



**1- Pinte o peru e escreva em suas penas 7 palavras das quais você é grato em ter, que você sente gratidão, pode ser escrito em inglês e/ou português**



Write the things you are thankful for on the turkey's tail.

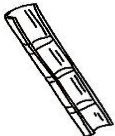
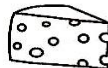
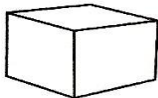
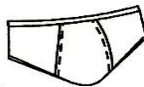



1- Procure no caça palavras, palavras com C e Q;

C

CAÇA-PALAVRAS DIVERTIDO

Q

C	O	R	D	Ã	O	X	C	U	E	C	A
M	V	T	A	Q	U	A	R	A	Q	O	I
A	A	Q	U	I	A	B	O	C	U	Q	S
N	Q	U	A	T	I	I	R	A	E	U	Q
D	U	I	M	C	U	B	O	N	I	E	U
I	E	L	S	P	L	R	S	I	J	I	E
O	I	O	P	A	E	M	G	V	O	R	I
C	R	M	I	N	Q	S	P	E	M	O	R
A	O	T	O	C	U	I	A	T	I	N	O
Y	X	C	A	M	E	L	O	E	C	A	S
C	A	Q	U	I	T	R	I	O	C	A	S
O	C	A	C	A	U	K	Q	U	A	T	I
L	C	C	A	V	A	L	O	S	A	T	O
A	A	B	C	R	U	C	O	L	A	R	S
R	E	S	Q	U	E	L	E	T	O	A	B
B	I	L	B	O	Q	U	Ê	I	W	E	J



2- Complete as palavras com a letra que falta e forme as palavras.



COMPLETANDO, JUNTANDO E NUMERANDO

1) Complete as palavras com a letra s, e, depois, escreva-as abaixo.

ca \_\_\_\_ aco

te \_\_\_\_ oura


manho \_\_\_\_ o

cami \_\_\_\_ eta

sobreme \_\_\_\_ a

cami \_\_\_\_ ola

Letras maiúsculas só nos nomes próprios.



2) Siga as setas e forme as palavras.

Tere → \_\_\_\_\_

va → \_\_\_\_\_

me → **sa** \_\_\_\_\_


avi → **so** \_\_\_\_\_

Eli → \_\_\_\_\_

gulo → \_\_\_\_\_

3) Leia e numere as palavras de acordo com os desenhos:

- aviso
- besouro
- casaco
- tesoura
- asa
- casa



ALUNO (A): \_\_\_\_\_

PROFESSORA: \_\_\_\_\_ ATIVIDADES DO 2º ANO \_\_\_\_\_

1- Realize a leitura do texto em seguida preencha o diagrama corretamente.

## A CHUVA QUE CHEGOU

Já fazia seis dias...  
E a chuva não chegava.  
O jardim esperava por ela,  
Mas ela só ameaçou.

O chão estava muito seco.  
Nem um chuvisco caiu.  
A margarida ficou chateada,  
E a chuva logo chamou:  
— Chuva! Chuva! Chega logo!  
A margarida ficou feliz  
Com a chuva que chegou.

*Graça Batituci*

1) Circule, no poema, as palavras com **CH** e encaixe-as no diagrama, de acordo com o número de letras.

	H			
		U		
			A	
				U
		M		
		V		
		T		

2- Complete o quadro abaixo com as palavras correspondentes.

## CH - LH - NH CAÇA-PALAVRAS

➔ PREENCHA O QUADRO COM AS PALAVRAS ABAIXO. OBSERVE OS MODELOS:

CHAPÉU	MINHOCA	ABELHA

NINHO  
LINHA  
MACHADO  
COELHA  
OLHO


GALINHA  
MULHER  
PINTINHO  
TELHA  
ILHA

CACHOEIRA  
CHUVEIRO  
BANHO  
LANCHE  
CACHORRO

ALUNO (A): \_\_\_\_\_

PROFESSORA: \_\_\_\_\_ ATIVIDADES DO 2º ANO \_\_\_\_\_

1- Encontre no caça palavras as partes de uma planta.



2-Vamos fazer uma pesquisa e completar o quadro abaixo.

Alimentos que as plantas nos fornecem através de:

Raiz	Caule	Folhas	Flores	Frutos	Sementes

3-- Muitas folhas de plantas nos servem de alimentos, sendo ricos em sais minerais e vitaminas como: couve, repolho, salsa, etc.

a-Descubra os nomes das verduras abaixo.



FA AL CE



VE COU



PO LHO RE

B- Pinte apenas ao alimentos produzidos pelas folhas



SALSA



CENOURA



ESPINAFRE

**IPIRANGA DO NORTE, 02 DE DEZEMBRO DE 2020, QUARTA-FEIRA.**

**ALUNO (A):** \_\_\_\_\_

**PROFESSORA:** \_\_\_\_\_ **ATIVIDADES DO 2º ANO** \_\_\_\_\_

**Leia o texto e responda as questões abaixo.**

**ENSINO RELIGIOSO E ARTE**

**A RELIGIÃO NO COTIDIANO**

Borges Guilouski

Religião significa religar  
Religar a pessoa  
Consigo mesma  
Com a vida  
Com a natureza  
Com o sagrado

A religião está no coração de muita gente  
Está na maneira de viver  
De praticar o bem  
De orar, rezar ou fazer prece  
De estender as mãos para ajudar alguém

Existem muitas religiões  
Religiões dos índios  
Religiões dos afros - descendentes  
Como candomblé e umbanda  
Religiões diferentes e até semelhantes entre si  
Hinduísmo e cristianismo  
Islamismo e a fé dos seguidores Baha'ís  
Espiritismo e muitas outras mais

Boa é toda religião  
Que ensina as pessoas  
A viver o respeito, a compaixão  
O amor e a paz

**ATIVIDADES**

- 1) Cite alguns valores que a religião da sua família ensina as pessoas.  
\_\_\_\_\_
- 2) De acordo com o texto, qual religião é boa?  
\_\_\_\_\_

**Arco - íris dos vegetais**

Uma refeição com muitas cores nos ajuda a ser mais naturais!  
Vamos deixar o arco-íris dos vegetais bem coloridos? Mas antes circule sua fruta preferida e identifique os vegetais de cada cor: **vermelho, amarelo, violeta.**



1) Encontre as profissões no caça-palavras:

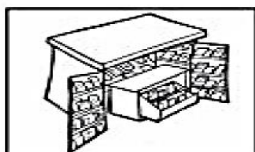
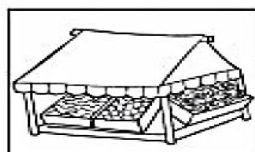
E	L	E	T	R	I	C	I	S	T	A	M	W	T
A	M	M	Z	U	G	D	L	E	U	K	O	T	S
B	M	B	O	Y	A	I	Y	R	A	A	T	L	E
M	U	O	M	B	R	A	C	C	C	J	O	N	C
M	L	L	É	I	Ç	R	J	G	Z	B	R	C	R
A	F	M	D	N	O	I	K	F	Y	A	I	L	E
K	Z	E	I	M	M	S	Z	U	M	R	S	P	T
B	X	A	C	E	R	T	V	R	Y	B	T	O	Á
F	Y	O	O	S	Z	A	O	F	A	E	A	L	R
B	O	M	B	E	I	R	O	R	G	I	C	I	I
K	T	P	R	O	F	E	S	S	O	R	V	C	A
Q	V	A	T	O	R	K	E	Z	R	O	E	I	F
D	E	N	T	I	S	T	A	X	I	S	T	A	C
A	Q	M	C	A	R	T	E	I	R	O	Y	L	B

- ATOR
- BARBEIRO
- BOMBEIRO
- CARTEIRO
- DENTISTA
- DIARISTA
- ELETRICISTA
- GARÇOM 
- MÉDICO
- MOTORISTA
- POLICIAL
- PROFESSOR
- SECRETÁRIA
- TAXISTA

2) Preencha os quadrinhos.

Profissão	O que faz
	Trata dos dentes
Jardineiro	
	Ensina os alunos
Enfermeira	
	Atende telefonemas e faz ligações

3) Ligue as imagens de acordo com os nomes.



BANCÁRIA

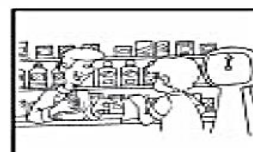
JORNALEIRO

FEIRANTE

FARMACÊUTICO

ENFERMEIRA

GARÇOM



ARME E RESOLVA

13 + 7 =

D	U

60 + 7 =

D	U

90 + 3 =

D	U

63 + 8 =

D	U

16 + 22 =

D	U

45 + 12 =

D	U

30 + 22 =

D	U

37 + 13 =

D	U

37 + 35 =

D	U

19 + 17 =


D	U

15 + 38 =

D	U

50 + 24 =

D	U



Deus é tão bom e nos abençoa sempre.

Unidade de medida litro 1.000 ml e meio litro 500 ml. Leia as atividades e resolva de acordo com o enunciado.

2 - Pinte o que compramos a litro.



3 - Circule o que compramos a litro:

óleo  
leite  
carne  
tomate

álcool  
açúcar  
água  
corda

tecido  
vinagre  
feijão  
refrigerante



4 - Resolva os problemas:

a) O carro de Gabriel só tem 10 litros de gasolina. Se o tanque cheio comporta 45 litros, de quantos litros ele vai precisar para completar o tanque?

Para completar o tanque, ainda faltam \_\_\_\_ litros de gasolina.

b) Mamãe foi ao mercado e comprou: 3 litros de leite, 1 litro de suco de uva e 2 litros de refrigerante. Quantos litros a mamãe comprou ao todo?

A mamãe comprou \_\_\_\_ litros.

1- Leia o texto sobre o trânsito, realizando a interpretação das imagens.  
Em seguida, desembaralhe as palavras e escreva-as corretamente.

## O Trânsito

Trânsito é o movimento de



de



de



e de



outros veículos nas ruas e estradas.

Morando na  ou no campo, precisamos ter muito

cuidado com o trânsito para evitarmos acidentes.

A segurança nas ruas depende muito dos



e dos motoristas. Eles precisam respeitar os



de trânsito para evitar acidentes.

2- Para organizar o trânsito e oferecer segurança aos pedestres existem:

**DAS - GUAR**

**XAS - FAI**

**RO FO MÁ SE**



a- \_\_\_\_\_



b- \_\_\_\_\_



c- \_\_\_\_\_



### ATIVIDADE DE EDUCAÇÃO FÍSICA

1) Conseguiu montar seu avião?

( ) SIM ( ) NÃO

2) Quem te ajudou a recortar e montar o avião de papel?

( ) MÃE ( ) PAI ( ) IRMÃOS ( ) OUTROS

3) Seu avião de papel voou longe?

( ) SIM ( ) NÃO

- Pinte seu avião bem colorido;
- Recorte a folha destacada ao Lado e dobre como no desenho

Dobradura avião de papel  
Como fazer:

