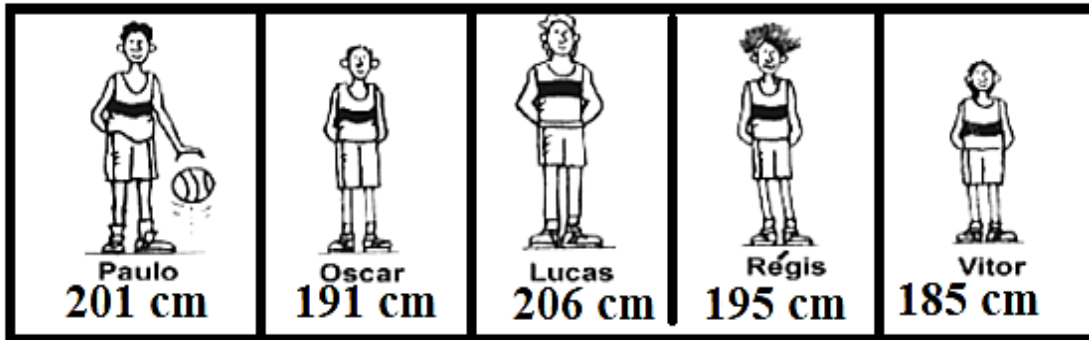


1- A figura abaixo representa uma equipe de basquete. Embaixo do desenho de cada jogador está seu nome e uma etiqueta com a sua altura, em centímetros. Observe a figura e responda:



- a) Qual é o nome do jogador mais alto? _____
- b) Qual é o nome do jogador mais baixo? _____
- c) Qual é a altura do jogador Paulo? _____
- d) Qual é a altura do jogador Régis? _____

2 - Um ônibus leva 52 pessoas em cada viagem. Ao final de 4 viagens, quantas pessoas o ônibus terá levado?



3 - Num parque de diversões, a montanha russa tem 123 carrinhos e cada um deles pode levar 12 pessoas. Quantas pessoas podem andar na montanha russa ao mesmo tempo?



4 - Jonas, o jornaleiro, entrega jornais todos os dias. Seus 278 fregueses recebem o jornal sete dias por semana. No final da semana, quantos jornais Jonas entrega?



Today is 23th of November 2020.

Teacher: Célia Monteiro


Grade: 4º. Ano _____

Student: _____

1- Observe as imagens de acordo com a preposição proposta.



2- Observe a imagem, leia as frases e identifique as verdadeiras de acordo com a imagem.



- () The dog is under the table.
- () The boy is beside the tree.
- () The pens are on the table.
- () The girl is in front of the doghouse.
- () The pens are beside the table.
- () The skates is behind the doghouse.

ATIVIDADES DO 4º ANO _____

Olá amiguinhos da Escola Municipal Nossa Senhora Aparecida! Hoje vocês vão fazer a leitura de uma notícia, sobre mim. E de quando eu vim para o zoológico do Rio de Janeiro



Macaquinho em extinção vira xodó de crianças no zôo do Rio

O Jardim Zoológico do Rio ganhou um novo morador. Seu nome é Miguelito, um macaco de peito amarelo, que nasceu no final do mês passado. O animal, que só é encontrado no sul da Bahia, está em extinção, segundo o zôo.

O macaquinho teve de ser levado para o berçário do zoológico, porque sua mãe não soube cuidar do filhote. Com 140g de peso, Miguelito é alimentado com leite e um suplemento para bebês.

Segundo o zôo, o animal se aquece com um bichinho de pelúcia. Ele virou um xodó principalmente das crianças. Os biólogos levantam Miguelito algumas vezes para que o público, do outro lado do vidro do berçário, veja o macaquinho.

O zôo do Rio, no parque da Boa Vista, em São Cristóvão (zona norte), funciona de terça a domingo, das 9h às 16h30. O valor do ingresso é de R\$5. Criança com altura de até um metro, idosos a partir dos 60 anos e portadores de deficiência física com até dois acompanhantes não pagam entrada.

Folha Online, 9/8/2007.

1- A partir da leitura do texto responda as questões a seguir:

1-O texto que você leu é uma notícia. Conte sobre o que ele está falando?

2-Uma notícia é um texto que fala sobre acontecimentos verdadeiros. O que você achou do texto que você leu?

3- Qual era o nome do macaquinho?

4- Onde o macaquinho foi morar?

5- O Miguelito é um macaquinho de peito amarelo, e segundo o zoológico ele só é encontrado em qual estado do Brasil?

6-Miguelito teve que ser levado ao berçário do zoológico. Qual foi a causa dele ser levado para o berçário?

7- Qual o endereço do zoológico que Miguelito foi levado?



Olá! eu sou o Sapo Sapeca, fique ligado quando usamos o S ou SS.

- Usamos a letra S no início das palavras, em: sapo, sapeca.
- Usamos S entre as vogais e ele vai ter o som de Z, em: rosa, amorosa, deserto.
- Entre as vogais e com som de S, nós usamos SS, em passarinho, massa.

Nesse caso separamos os SS nas separações de sílabas. Como em:
Pás- sa- ro, mas-sa.

1- Complete com S ou SS e separe as sílabas a seguir:

A) pá__aro: _____

B) pa__a : _____

C) __eis : _____

D) pa__ado: _____

E) pa__arela: _____

F) pê__ego: _____

G) trave__eiro: _____

H) dino__auro: _____

D) gira__ol: _____

J) Va__oura: _____

K) Bú__ola: _____

2- Encontre no caça palavras ao lado palavras que são escritas com S ou SS.

CAÇA PALAVRAS SS



D	E	S	R	E	S	S	U	I	S	E	O	S
O	D	G	V	B	U	S	S	O	L	A	S	V
P	E	R	A	S	T	E	Ç	G	S	O	S	A
L	Z	E	B	C	O	D	E	F	S	S	S	S
Ç	E	S	O	L	H	S	C	E	U	R	I	S
U	S	U	S	O	J	F	S	A	I	G	N	O
T	S	G	A	E	E	G	V	O	A	F	J	U
E	E	S	S	W	R	H	B	R	R	D	R	R
W	I	S	P	Ê	S	S	E	G	O	R	E	A
D	S	O	S	Q	D	J	R	L	V	E	D	S

3-Forme frases com:

a- rosa: _____

b- pêssego: _____

c- passado: _____

d- sábado: _____

Cuidando da saúde! Todos contra o mosquito da dengue



A dengue é um tipo de doença causada por um tipo de microrganismo transmitido pela picada da fêmea do mosquito *Aedes aegypti* os sintomas são: vermelhidão no corpo e dores de cabeça, atrás dos olhos, na musculatura e nas articulações. Além da dengue, o *Aedes aegypti* transmite outras doenças, como zika, febre amarela e chikungunya. Locais com água parada servem de criadouros para o mosquito, por isso não devemos deixar água parada em latas, embalagens, pneus velhos, vasos de planta, etc. Lá as fêmeas colocam seus ovos, que se desenvolvem em novos mosquitos. Portanto, a principal forma de combater essas doenças é eliminar os criadouros do mosquito. Manter nosso quintal limpo também é uma forma de prevenção! Combater o mosquito *Aedes aegypti* é dever de todos nós.

1- Complete as frases usando as palavras no quadro abaixo:

Dengue- água –mosquito- sintomas-hemorrágica

- a) As pessoas devem evitar o acúmulo de _____parada.
- b) A dengue _____é a forma mais grave da doença, que pode levar a morte.
- c) Os principais _____da _____são febre, dores nas articulações, manchas vermelhas na pele, febre e vômitos.
- d) O _____transmissor da dengue é o *Aedes Aegypti*.

2) Quais cuidados as pessoas devem ter para evitar a dengue?

3) Encontre no caça-palavras as palavras abaixo:


DENGUE - CAIXA D' ÁGUA - VASO - PNEU - ÁGUA -
AEGYPTI - GARRAFA - SECRETARIA MUNICIPAL DE
SAÚDE

A B H D E N G U E F C L M J O C Q F J G
Q G V U C P M Z Y D Q S X U T A R D U M
M E A I R O L A N D I A G J Q I K H H C
Y D S V X R V O Z M P Q U T C X Q P T V
K F O Q D A L J H A G U A B I A M N Q L
A B H J F K G A I F C L M D O D Q E J G
Q G C U V P M Z Y D Q S X U T A R U D M
M I A E G Y P T I H J L B D Q G K I S C
K F E Q D G A R R A F A O B I U M A Q L
R U Z T V U Q G Y M P S X V C A Y V T Q
S E C R E T A R I A M J O C E J M R V A
K F J M R M U N I C I P A L V R X V D B
A B F C L M D O F Q D E S A U D E C Q G

A teimosia de Jonas

1- Encontre na baleia as palavras a seguir:

Jonas, Ninise, Tarsis, tempestade, medo, mar, peixe e Deus.



Deus pediu a Jonas que cumprisse uma missão. Ele deveria ir a uma cidade chamada Nínive e chamar o povo ao arrependimento. Mas Jonas não queria ir lá. Embarcou num navio que ia para outra cidade.

Veio uma grande tempestade. Os marinheiros ficaram com medo que o navio afundasse! Jonas sabia que Deus havia mandado a tempestade porque ele fugiu. Ele disse aos marinheiros que o jogassem ao mar para que a tempestade parasse.

Deus enviou uma baleia para salvar Jonas. Ele ficou na barriga do animal por três dias. Jonas orou. Decidiu se arrepender e seguir a Deus. Deus mandou a baleia cuspir Jonas em terra seca.

Jonas foi a Nínive. Ensinou as pessoas de lá. E o povo da cidade o ouviu! Eles começaram a seguir a Deus novamente.

Quando faço uma escolha errada, posso me arrepender e fazer outra tentativa. Deus amava Jonas e também me ama!

2- Pinte os pontilhados e descubra os desenhos.



IPIRANGA DO NORTE, 26 DE NOVEMBRO DE 2020, QUINTA-FEIRA.

ALUNO (A): _____

PROFESSORA: _____

ATIVIDADES DO 4º ANO _____ HISTÓRIA



O TRABALHO NAS LAVOURAS DE CAFÉ.

Até 1888, a maioria dos trabalhos nas fazendas de café eram realizados pelos escravos.

Conheça o trabalho realizado por estas pessoas



Muitas florestas nativas foram destruídas para abrir espaço para a plantação de grandes áreas de café. Nesse processo, as florestas eram queimadas e depois eram feitos pequenos buracos na terra para a plantação das mudas de café. Essa técnica é chamada de coivara.



Depois de cinco ou seis anos, a colheita era feita manualmente. Os frutos eram colocados em peneiras para serem separados dos galhos e das folhas. A próxima etapa era a lavagem do café para a retirada das impurezas.

Após serem limpos, o café secava ao sol em grandes terreiros. Na maioria das vezes, os frutos eram descascados, ensacados e enviados para a cidade.

O transporte do café, inicialmente eram levados pelos escravos até as estações por carroças, nas estações os grãos eram depositados nos vagões do trem e levados até o porto. De lá, as sacas eram enviadas em navios, principalmente para a Europa e os Estados Unidos. Mais tarde, o governo incentivou a construção de ferrovias para que o café fosse transportado mais rapidamente e, em 1852, Irineu Evangelista de Sousa, mais conhecido como Visconde de Mauá, construiu a primeira ferrovia do Brasil, no Rio de Janeiro.

1- Observe as ilustrações e enumere os fatos:

- Transporte do café da fazenda até as estações.
- Carregamento do café nos vagões do trem para levar até o porto.
- Transporte do café por meio de navios para outros continentes, como a Europa.

()



()



()



Leia atentamente os enunciados e desenvolva as atividades propostas.

Num estacionamento há 3 150 automóveis e 632 motocicletas. Quantos veículos há ao todo nesse estacionamento?




.....



Se do total de veículos que estão no estacionamento saírem 632 automóveis, quantos veículos sobrarão?

.....

2) Escreva as sentenças matemáticas para achar os dados que faltam na tabela.

Nome da pessoa	Quantia que possuía	Quanto gastou	Quanto sobrou
 Carlos	654 reais	450 reais
 Márcia	564 reais	464 reais
 Leda	500 reais	46 reais

3) Encontre os termos escondidos pelos cartões e indique os cálculos que você fez para achá-los.

a) $7\ 000 + 400 = \boxed{}$

b) $\boxed{} + 1 = 720$

c) $1\ 700 + \boxed{} = 1\ 741$

4) Agora faça o mesmo para a subtração:

a) $624 - 24 = \boxed{}$

b) $\boxed{} - 999 = 4\ 000$

c) $2\ 032 - \boxed{} = 32$

5) Fazendo descobertas:

a) Resolva a adição: $1\ 964 + 4\ 015 =$

.....

b) Troque a ordem das parcelas acima e resolva a nova adição.

.....

c) O que você concluiu?

.....

.....

.....

* Os cálculos podem ser resolvidos à parte.

IPIRANGA DO NORTE, 28 DE NOVEMBRO DE 2020, SÁBADO.

ALUNO (A): _____

PROFESSORA: _____

ATIVIDADES DO 4º ANO _____ GEOGRAFIA

REGIÃO CENTRO OESTE



A Região Centro-Oeste é formada por 4 unidades de federação, sendo:

- Distrito Federal – Brasília(DF)
- Goiás -Goiânia (GO)
- Mato Grosso -Cuiabá (MT)
- Mato Grosso do Sul -Campo Grande (MS)

O Relevo do Centro-Oeste brasileiro é caracterizado pelo Planalto Central, com altitudes elevadas, onde há presença das Chapadas, como a Chapada dos Guimarães e a Chapada dos Veadeiros. No estado do MT há a Planície do Pantanal, com baixas altitudes que são inundáveis, formando uma paisagem diferente do restante da região.

O clima que predomina na região é o Tropical de Altitude, com presença de estações seca prolongada no inverno e úmido no verão.

A vegetação que predomina é o Cerrado, possui vegetação baixa, com gramíneas e arbustos, árvores de médio porte com galhos tortuosos e raízes profundas. No Pantanal a vegetação é exuberante devido os altos índices de umidade que predomina na região.

A economia da região se baseia principalmente na agricultura, de soja, milho, algodão, feijão, girassol, e também na pecuária bovina. Outro fator que impulsiona a economia na região Centro-Oeste é o turismo, principalmente voltado aos fatores naturais da região, como as Chapadas e o Pantanal.

Na culinária também se destacam alguns pratos típicos da região: galinhada com pequi, a sopa paraguaia, o caribeu, o bolo-de-arroz e a mojica de pintado.

Responda as questões abaixo:

1- Cite as 4 unidades de federação que formam a Região Centro-Oeste.

2- Como é caracterizado o relevo da Região Centro-Oeste?

3- Escreva como é a vegetação no Pantanal.

4- Cite três produtos da agricultura da Região.

5- Marque um x na resposta certa:

Pratos típicos que fazem parte da culinária do Mato Grosso.

() feijoada () sopa paraguaia () churrasco () bolo-de-arroz () galinhada com pequi

ATIVIDADE DE EDUCAÇÃO FÍSICA



1. Encontre na Caça-palavra 5 esportes de marca e de precisão



G B O L I C H E G
N A T A Ç Ã O B O
W E R U T O Y Y L
B D K ã J V S T F
Y Y M Ç L D W R U
H M W U X ã O S H
C O R R I D A O X
X H I L D M U X R
A T L E T I S M O



ESPORTE DE PRECISÃO:
SÃO OS ESPORTES QUE
TÊM UM ALVO
ESPECÍFICO. **EXEMPLOS:**
TIRO COM ARCO,
BOLICHE, GOLF,
DARDO, ETC.



ESPORTE DE MARCA: SÃO OS
ESPORTES EM QUE O
RESULTADO FINAL OCORRE A
PARTIR DO TEMPO, DA
DISTÂNCIA OU DO PESO.

EXEMPLOS: ATLETISMO,
CORRIDA, CORRIDA COM
BARREIRA, SALTO EM
DISTÂNCIA, NATAÇÃO E
LEVANTAMENTO DE PESO, ETC.

2. Qual o nome do esporte de precisão indicado na Imagem abaixo?



Fonte: SOUSA, Mauricio. Turma da Mônica. Desenhos para colorir. Rota83.com

() BOLICHE

() GOLF

() ARCO E FLEXA

() NATAÇÃO

3. Escreve 3 esportes de precisão que você conhece?
