

A CORRIDA DOS CANGURUS

1) DE PULO EM PULO, AJUDE OS CANGURUS NESTA BRINCADEIRA. JÁ COMECEI.

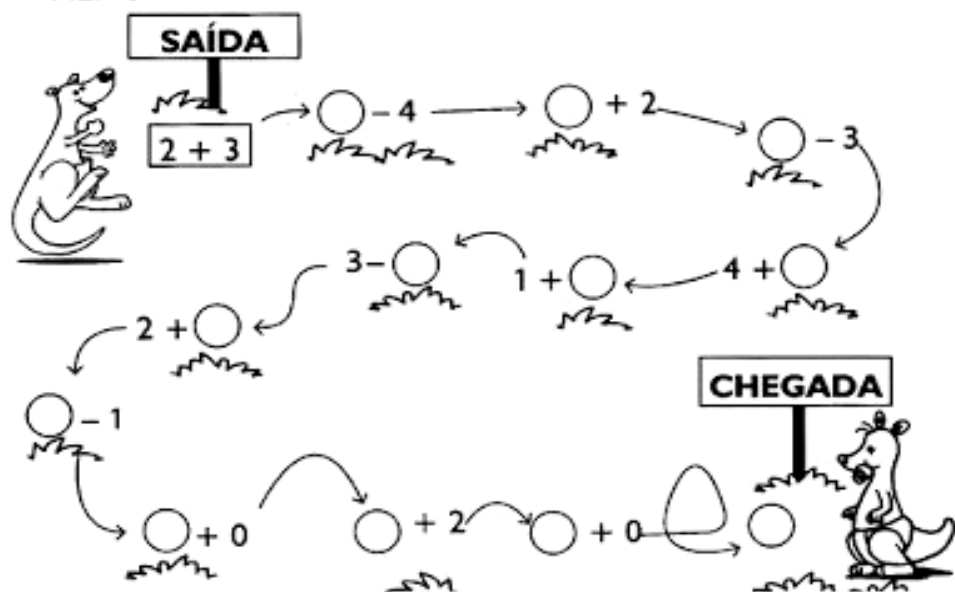
+ 2	
2	4
3	
1	
0	

- 1	
5	4
3	
4	
2	

+ 3	
0	3
1	
2	
3	



2) FAÇA AS OPERAÇÕES E LEVE O CANGURU ATÉ O SEU FILHOTE.

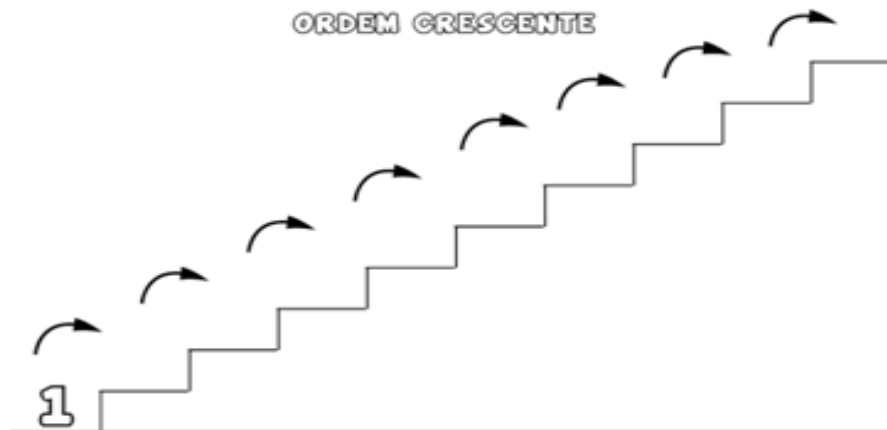


1)

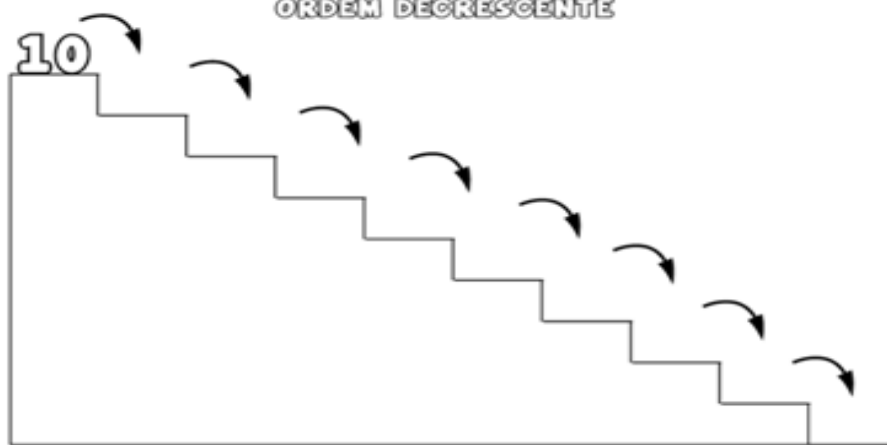
MATEMÁTICA

COMPLETE A SEQUÊNCIA NUMÉRICA SEGUINDO A:

ORDEM CRESCENTE



ORDEM DECRESCENTE




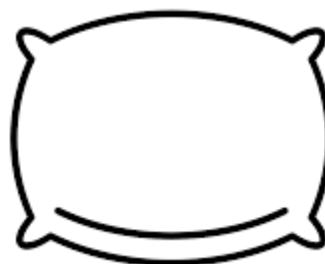
Today is 16th of November 2020.

Teacher: Célia Monteiro

Grade: 1º. Ano _____

Student: _____

1- Ligue os animais ao seu correspondente.



O CARACOL VIAJANTE

RODOLFO É UM CARACOL.
ELE ADORA VIAJAR.
ELE NÃO TEM PRESSA DE CHEGAR.
RODOLFO LEVA A CASA NAS COSTAS.
A BARRIGA VAI NO CHÃO.
A CABEÇA VAI NO AR.
RODOLFO VIVE SEMPRE SATISFEITO.
ELE NÃO TEM ALUGUEL PRA PAGAR.

(SÔNIA JUNQUEIRA. O CARACOL VIAJANTE. 3 SÃO PAULO, ÁTICA, 1987)

COMPLETAR

O NOME DO CARACOL É?

--	--	--	--	--	--	--

ELE ADORA:

--	--	--	--	--	--

O QUE ELE LEVA NAS COSTAS?

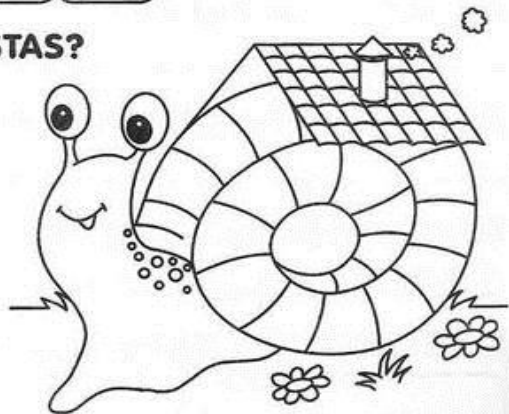
--	--	--	--

A BARRIGA VAI NO?

--	--	--	--

A CABEÇA VAI NO?

--	--




FRASES ESCONDIDAS!

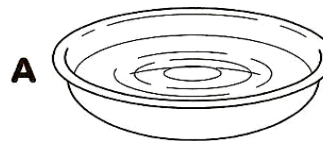

TROQUE OS DESENHOS POR PALAVRAS.




PEGOU A




CAIU NO



É DA



CANTA NA



IPIRANGA DO NORTE, 17 DE NOVEMBRO DE 2020, TERÇA-FEIRA.

ALUNO: _____ 1º ANO _____

PROFESSORA: _____ PORTUGUÊS

OBSERVAÇÃO: QUANDO FALAMOS DE FEMININO E MASCULINO, LOGO ESTAMOS FALANDO DE MACHO E FÊMEA.

EXEMPLO: PATO - PATA
CAVALO - ÉGUA

1- ESCREVA AS PALAVRAS ABAIXO NOS QUADROS CORRETOS.

GATO –	PROFESSORA-	HEROÍNA-	ATOR
CAMPEÃO –	BOI -	GALO-	ATRIZ
GALINHA	HERÓI	GATA-	VACA
MENINA-	MENINO	CAMPEÃ	PROFESSOR

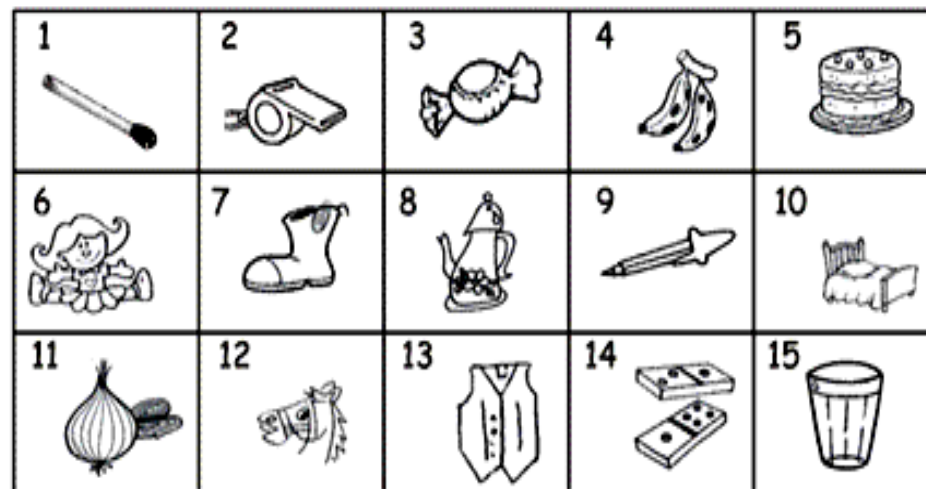


MASCULINO



FEMININO

2) AUTODITADO



1. _____	2. _____	3. _____
4. _____	5. _____	6. _____
7. _____	8. _____	9. _____
10. _____	11. _____	12. _____
13. _____	14. _____	15. _____

IPIRANGA DO NORTE, 18 DE NOVEMBRO DE 2020, QUARTA-FEIRA.

ALUNO: _____ **1º ANO** _____

PROFESSORA: _____ **CIÊNCIAS**

1-ESCREVA NO ESPAÇO ABAIXO O NOME DO NOSSO PLANETA.

COMPLETE CORRETAMENTE:

APARECE NO NOME DE
MEU PLANETA ...

Nº DE LETRAS

Nº DE VOGAIS

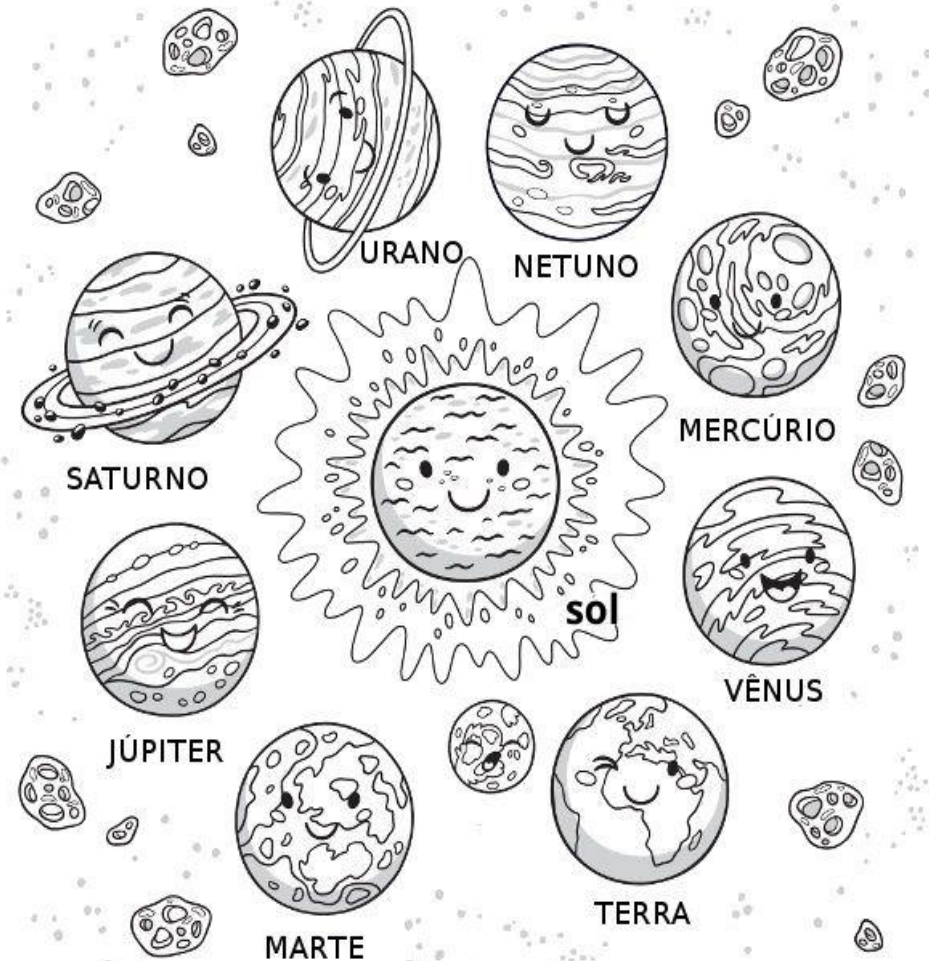
Nº DE CONSOANTES



SISTEMA SOLAR

O SISTEMA SOLAR É FORMADO NÃO SÓ POR PLANETAS E O SOL, MAS TAMBÉM POR CORPOS CELESTES, COMO COMETAS E ASTERÓIDES. ATUALMENTE O SISTEMA SOLAR É FORMADO POR OITO PLANETAS QUE GIRAM EM TORNO DO SOL.

1- PINTE OS PLANETAS ABAIXO E CONTE QUANTOS PLANETAS GIRAM EM TORNO DO SOL. _



IPIRANGA DO NORTE, 18 DE NOVEMBRO DE 2020, QUARTA-FEIRA.

ALUNO: _____ 1º ANO _____



PROFESSORA: _____

ARTE

20 DE NOVEMBRO: DIA DA CONSCIÊNCIA NEGRA
O DIA DA CONSCIÊNCIA NEGRA É UM DIA DEDICADO PARA LEMBRAR A IMPORTÂNCIA DA FIGURA DO NEGRO NA CONSTRUÇÃO DA SOCIEDADE BRASILEIRA.

1- PINTE A FIGURA CORRETA E ENCONTRE OS 4 ERROS.

JOGO DOS 4 ERROS



ENSINO RELIGIOSO



MINHAS ATITUDES.

DEVEMOS SER CRIANÇAS BEM EDUCADAS E GENTIS. DIGA SEMPRE:

BOM DIA! BOA NOITE! PARABÉNS! COM LICENÇA! COMO VAI? ATÉ LOGO! POR FAVOR!


VAMOS PINTAR OS QUADRINHOS DAS CENAS ABAIXO DE ACORDO COM O QUE SE PEDE:

AZUL= COMO VAI?

AMARELO= PARABÉNS!

VERDE= BOA NOITE!

VERMELHO= ATÉ LOGO!



IPIRANGA DO NORTE, 19 DE NOVEMBRO DE 2020, QUINTA-FEIRA.

ALUNO: _____ **1º ANO** _____

PROFESSORA: _____ **HISTÓRIA**

JUNTO COM SEUS COLEGAS REPUBLICANOS, O MARECHAL DEODORO DA FONSECA ENCERROU O PERÍODO DA MONARQUIA, INAUGURANDO A REPÚBLICA BRASILEIRA. POR ISSO, ELE É CONSIDERADO O PRIMEIRO PRESIDENTE DO BRASIL.

1- VAMOS COLORIR BEM BONITO O DESENHO.

15 de Novembro Proclamação da República



19 DE NOVEMBRO DIA DA BANDEIRA.

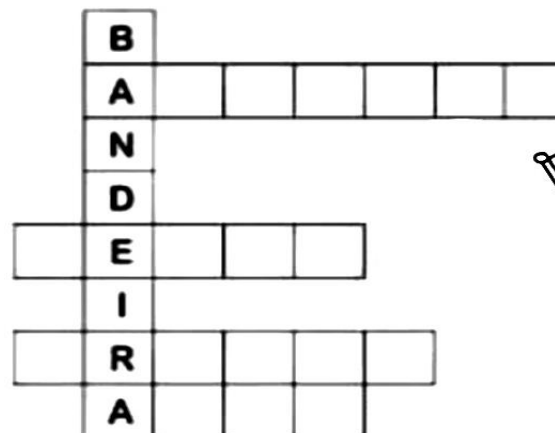
NO DIA 19 DE NOVEMBRO, COMEMORAMOS O DIA DA BANDEIRA DO BRASIL.

A BANDEIRA É UM SÍMBOLO NACIONAL.

SUAS CORES SÃO: VERDE, AMARELO, AZUL E BRANCO.

DENTRO DO CÍRCULO DA BANDEIRA, ESTÁ ESCRITA A FRASE: "ORDEM E PROGRESSO".

1-COMPLETE A CRUZADINHA COM AS CORES DA BANDEIRA DO BRASIL:



2-AGORA ESCREVA O NOME DE SEU PAÍS:

3-EM QUE DATA SE COMEMORA O DIA DA BANDEIRA?

4-O QUE ESTÁ ESCRITO NA BANDEIRA DO BRASIL?

1 – COMPLETE CONTANDO DE 2 EM 2 E DEPOIS DE 3 EM 3.

DE 2 EM 2

12 18 26 32

DE 3 EM 3

3 9 18 24 33

CAÇA NÚMEROS

2- ENCONTRE NO CAÇA-NÚMEROS, OS NÚMEROS ABAIXO.

VINTE E SEIS = _____ VINTE E DOIS = _____ DEZESSETE = _____

DEZ = _____ VINTE E CINCO = _____ TRINTA E NOVE = _____

DEZESSEIS = _____ VINTE E UM = _____ DEZOITO = _____

VINTE E SETE = _____ DEZENOVE = _____ TRINTA E UM = _____




1	3	0	9	5	4	2	1	3	4
3	2	7	6	2	5	0	3	0	9
4	3	1	8	5	1	1	6	7	0
5	2	5	1	2	6	3	2	9	6
1	7	2	6	1	9	2	9	2	1
2	2	7	0	3	3	1	4	6	5
5	1	0	3	2	0	3	2	6	0
2	4	4	2	5	4	5	1	2	4
0	3	1	6	1	2	1	7	4	1
3	1	6	0	3	9	3	3	1	5




ESPESSURA: LARGO E ESTREITO

3- FAÇA UMA + NA GRAVATA MAIS ESTREITA.



4- DESENHE BOLINHAS NO LAÇO MAIS LARGO.



5- PINTE A CAMISETA MAIS LARGA.
RISQUE A CAMISETA MAIS ESTREITA.



IPIRANGA DO NORTE, 21 DE NOVEMBRO DE 2020, SÁBADO.

ALUNO: _____ **1º ANO** _____

PROFESSORA: _____ **GEOGRAFIA**

1-FAÇA A LEITURA JUNTO COM UM ADULTO, DEPOIS RESPONDA AS QUESTÕES PROPOSTAS.

A ESCOLA DE MARCELO

A MINHA ESCOLA, QUER DIZER,
A ESCOLA NÃO É MINHA,
MAS É A ESCOLA ONDE EU ESTUDO,
FICA PERTO DA MINHA CASA.
EU, O CATA, O BETO E A ANINHA
VAMOS JUNTOS PARA A ESCOLA.
A ANINHA AINDA ESTÁ NO PRÉ.
EU E O CATA ESTAMOS NO 1º ANO.
NOSSA PROFESSORA CHAMA MÁRCIA.
NA ESCOLA A GENTE VAI PARA APRENDER.
MAS, PRINCIPALMENTE, A GENTE VAI
PARA APRENDER A PENSAR [...]

ROCHA, Ruth. A escola do Marcelo. São Paulo: Salamandra, 2001. P.3-1-

2- QUAL É O TÍTULO DO TEXTO?

.....

3- ONDE FICA A ESCOLA DE MARCELO?

.....

4- QUANTOS AMIGOS VÃO A ESCOLA COM MARCELO? QUAL É O NOME DELES?

.....

5- E VOCÊ, POR QUAIS MOTIVOS VAI A ESCOLA?

.....



ESCOLA – OUTRO LUGAR DE VIVÊNCIA

ASSIM COMO A CASA, A ESCOLA É UM LUGAR DE VIVÊNCIA, ONDE MUITAS CRIANÇAS PASSAM PARTE DO TEMPO APRENDENDO E BRINCANDO COM OS COLEGAS E PROFESSORES.



1- A ESCOLA QUE VOCÊ ESTUDA ESTÁ LOCALIZADA:
() PERTO DA SUA CASA () LONGE DA SUA CASA

2- MÁRCIA É O NOME DA PROFESSORA DE MARCELO. QUAL É O NOME DA SUA PROFESSORA?

.....

3-ESCREVA O NOME DE DOIS AMIGOS QUE VOCÊ TEM NA ESCOLA.

.....

IPIRANGA DO NORTE, 20 DE NOVEMBRO DE 2020, SEXTA-FEIRA.

ALUNO: _____ ANO: _____ TURMA: _____

PROFESSOR: Luiz Cezar Tamioso Junior



ATIVIDADE DE EDUCAÇÃO FÍSICA



- 1- Identifique os esportes que aparecem no jogo da memória?

- 2- Qual destes esportes é utilizado pelos índios para caçar seu alimento?

- 3- Jogo da memória (jogos de marca e jogos de precisão). Com ajuda de um responsável recorte as cartinhas e se divirta brincando.

