

Ipiranga do Norte, 24 de agosto de 2020, segunda-feira.

Aluno (a): _____ **5º ano** _____

Professora: _____

Avaliação de Ciências: Leia com atenção para responder adequadamente as perguntas.

ASSINALE A ALTERNATIVA CORRETA:

1- É comum ouvirmos dizer que, possivelmente a falta de água doce no planeta será um dos mais graves problemas deste século. Muitas atividades humanas contribuem para a escassez de água potável.

Assinale quais são as ações humanas responsáveis para evitar a falta de água no planeta:

- (A) Não deixar a torneira aberta enquanto escovar os dentes, ou lavar as louças.
- (B) Jogar lixo nas ruas.
- (C) Derrubar as matas.
- (D) Jogar o lixo nos rios e lagos.

2- A poluição do ar nem sempre é fácil de ser percebida, mas seus efeitos, principalmente na saúde das crianças são visíveis.

Dentre as ações humanas que contribuem para o aumento da poluição atmosférica está:

- (A) o uso de veículos automotores e as queimadas.
- (B) a substituição dos filtros nas chaminés das fábricas
- (C) o uso de bicicletas
- (D) o uso de umidificadores durante a seca.

3- A hidrosfera, camada de água do planeta Terra é fundamental para a vida. Porém, se ela estiver poluída, pode ser veículo de muitas doenças.

As atitudes que contribuem para a poluição da hidrosfera e, conseqüentemente, colocam em risco a nossa saúde são:

- (A) nadar ou beber água nos rios
- (B) comer frutas e verduras lavadas com água não tratada
- (C) jogar lixo, despejar esgotos e outros resíduos em córregos ou nas nascentes de água
- (D) usar a água dos rios para lavar o carro.

4- As atividades diárias geram grande produção de lixo. O descarte correto destes materiais tem sido um desafio para a sociedade. Para evitar problemas ambientais e de saúde à população, os resíduos (vidros, plásticos, papeis, metais) deverão ser encaminhados:

- (A) a incineração
- (B) aos terrenos baldios
- (C) ao lixão
- (D) na rua

5- Para eliminar o mosquito *Aedes aegypti*, transmissor do vírus da dengue, Zika e Chikungunya, é preciso mudar alguns comportamentos que oferecem risco à saúde, como:

- (A) deixar o lixo no quintal de casa
- (B) guardar as latinhas de refrigerante
- (C) reutilizar as embalagens
- (D) plantar árvore.

Ipiranga do Norte, 25 de agosto de 2020, terça-feira.

Aluno (a): _____ 5º ano _____

Professora: _____

Avaliação de Português

1. COLOQUE O ACENTO ADEQUADO, CIRCUNFLEXO (ˆ) OU AGUDO (´):

Rapido	lagrima	estomago	principe	passaro
Sítio	açucar	bone	agua	mecanico
Cafe	lapis	sofa	voce	regua
Onibus	maquina	parabens	cranio	pessego
Magico	automovel	portugues	chale	comoda
Lâmpada	arvore	robo	tambem	triangulo

2. COMPLETE COM M OU N:

ve__to	pla__tar	te__po
pe__te	ta__bém	bri__car
co__pressa	so__bra	as__ba
i__seto	seme__tinha	e__brulho
fo__te	e__xugar	caxu__ba
e__xuto	co__prido	as__gue
po__te	e__canto	ca__tar
e__purrar	te__poral	co__plexo

3. COMPLETE COM XC OU SC:

na__er	acre__entar	de__ixar	di__ípulo
cre__ente	fa__inado	flore__er	rena__er
e__eção	e__eder	e__elência	e__eto
decre__ente	fa__ículo	ví__eras	convale__ença
incande__ente			

4. COMPLETE COM S OU SS:

discur__o	a__ado	con__ultório	per__istente
inten__o	conde__a	a__altante	e__trela
pi__cina	depre__a	pa__eio	mi__aa__ado
po__ição	profe__or	a__alto	a__inar
recur__o	pá__aro	se__enta	ma__agem
pa__to			

5.

LOTERIA ORTOGRÁFICA

Pinte a coluna que as letras corretas completam a palavras

PALAVRAS	ge	gi	je	ji	Escreva a palavra
lon__					
an__nho					
ar__la					
__boia					
la__					
refri__erador					
ima__nação					

Ipiranga do Norte, 25 de agosto de 2020, terça-feira.

Aluno (a): _____ 5º ano _____

Professora: _____

Continuação da Avaliação de Português

JOCA O PINTINHO

A galinha Cocó vivia muito contente com sua ninhada, até que começou a notar certas manias do pintinho Joca.

Uma tarde ciscavam no campo, à sombra de uma grande árvore, à procura de coisas apetitosas, quando encontrou um pedaço de jornal.

Ninguém deu a menor importância e foram andando. Mas Joca ficou para trás:

- Ande Joca - gritou Cocó.

O pinto nem deu atenção. Cocó voltou para apanhá-lo, quando percebeu que ele estava comendo tranquilamente o pedaço de jornal.

- Não faça isso – gritou – Não vê que vai ficar doente?

Numa última bicada, Joca engoliu o resto e saiu correndo atrás da mãe, que exigia explicações.

- Sabe mãe era uma poesia tão bonita, que ainda estou sentindo o gosto. Agora ela está aqui! – E pôs a asa na cabeça para mostrar.

Dinorah, Maria. O galo superdotado. 3 ed.

Belo Horizonte: Lê, 1992

5. QUESTÕES

A – QUAL É O TÍTULO DO TEXTO?

() A GALINHA COCÓ

() O PINTINHO

() JOCA O PINTINHO

() O PINTINHO JOCA

B- QUEM É O AUTOR DO TEXTO

() O GALO SUPERDOTADO

() A GALINHA COCÓ

() BELO HORIZONTE

() DINORAH, MARIA

C- QUANTOS PARÁGRAFOS HÁ NO TEXTO?

() 8

() 10

() 21

() 14

D- O QUE JOCA ENCONTROU?

() UMA POESIA

() UM PEDAÇO DE JORNAL

() UM PINTINHO

() UMA ÁVORE GRANDE

Ipiranga do Norte, 26 de agosto de 2020, quarta-feira.

Aluno (a): _____ 5º ano _____

Professora: _____

Avaliação de Matemática

SITUAÇÃO PROBLEMA

1. Laura comprou 870 gramas de carne moída e vai dividir igualmente em 3 pacotes. Quantas gramas terão em cada pacote?
2. Dona Marta comprou uma TV por 950 reais, nas seguintes condições: uma entrada de 250 reais. O restante ela pagará em duas vezes (duas prestações). Qual o valor de cada prestação?
3. Em uma fábrica há 1.265 operários que trabalham em dois turnos. No diurno, trabalham 975. Responda quantos trabalham à noite.
4. Dos R\$ 260 reais que Leonardo possuía, gastou R\$ 185, depois ganhou R\$ 88 reais. Será que Leonardo ainda tem dinheiro? Quanto?
5. Um sorveteiro saiu com 326 sorvetes. Na primeira parada vendeu 98, na segunda, 130. Quantos sorvetes ainda restam para vender?

Ipiranga do Norte, 26 de agosto de 2020, quarta-feira.

Aluno (a): _____ 5º ano _____

Professora: _____

Avaliação de Matemática

$1203 \times 14 =$	$456 \times 28 =$	$39 \times 57 =$	$6\,253 \times 9 =$	$506 \times 36 =$
$672 \div 12 =$	$1625 \div 25 =$	$2032 \div 8 =$	$16\,170 \div 35 =$	$3060 \div 45 =$
$1\,645 - 897 =$	$10\,286 - 8\,917 =$	$5\,210 - 1\,684 =$	$11\,232 - 9\,605 =$	$1\,000 - 751 =$
$1\,283 + 687 =$	$6\,541 + 3856 =$	$9\,417 + 1\,877 =$	$50\,189 + 1\,469 + 389 =$	$2\,995 + 1\,647 =$

Ipiranga do Norte, 27 de agosto de 2020, quinta-feira.

Aluno (a): _____ 5º ano _____

Professora: _____

Arte :

O desenho ao lado faz referencia a uma pintura famosa do artista da Pop Arte, Roy Lichtenstein (1923-1997). Utilizando a grade como guia, amplie o desenho transportando as linhas de cada quadrado para a grade maior.





Escola Municipal
Nossa Senhora Aparecida

Ens. Religioso: Ler e refletir os valores, em seguida pinte o mesmo.

Valores



ESCOLHA UMA DAS PALAVRAS ACIMA E PRODUZA UM PEQUENO TEXTO UTILIZANDO O VERSO DA FOLHA.

Ipiranga do Norte, 28 de agosto de 2020, sexta-feira.

Aluno (a): _____ 5º ano _____

Professora: _____

Avaliação de História

1- Marque X nas opções corretas quanto a Pré-história.

a- Onde moravam os homens da Pré-história:

prédios cavernas casas ocas

b- Eles se alimentavam de:

frutas, raízes e animais comidas industrializadas pão e pizza macarronada

c- Os instrumentos usados nas caçadas eram:

flechas revólveres pedras espingardas

d- O trabalho de caçar era feito pelos:

homens mulheres crianças idosos

2- Complete as frases com as palavras do quadro.

povos – grupos humanos – indígenas – africanos – imigrantes
europeus e asiáticos – índios – manifestações culturais - brasileiro

a- O povo _____ é a união de vários _____.

b- Os primeiros povos a habitar as terras brasileiras foram os _____.

c- No Brasil as _____ são bastante diversificadas.

d- A mistura de diversos _____ como: _____, _____,
imigrantes _____ e _____ contribuíram para a nossa formação.

3- Assinale V para as afirmativas verdadeiras e F para as falsas.

As primeiras cidades se desenvolveram quando os povos antigos se tornaram sedentários.

As primeiras grandes cidades se localizavam próximas aos rios.

Sedentário, é aquele que não possui moradia fixa.

Entre os séculos XV e XVIII alguns povos europeus partiram para explorar o oceano que os rodeava.

4- O que são:

a- DIREITOS: _____

b- DEVERES: _____

5- Em sua opinião, por que devemos respeitar as regras/normas e as leis?

Ipiranga do Norte, 29 de agosto de 2020 - sábado.

Aluno (a): _____ 5º ano _____

Professora: _____

Avaliação de Geografia

1 – Descubra os nomes de alguns povos que vieram como imigrantes para o Brasil.



2- Nas alternativas abaixo coloque V para verdadeira e F para falsa.

- () O comércio realizado entre países é chamado de comércio internacional.
- () Importação é a compra de mercadorias produzidas em outros países.
- () A venda de produtos para outros países é chamada de importação.
- () Quando estamos em uma feira podemos observar vários tipos de atividades comerciais.

3- Explique a diferença entre os termos a seguir.

- Comércio interno e comércio externo:

4- Observe a imagem.



Você se considera um consumidor consciente? Explique.

5- A Região Centro-Oeste é formada por 3 estados e o Distrito Federal. Escreva a sigla de cada um deles.

- Mato Grosso ()
- Mato Grosso do Sul ()
- Goiás ()
- Distrito Federal ()


Today is 24 th of August 2020

Teacher: Célia Monteiro Rocha Grade: 5°. _____

Student: _____

-O que é bullying? (what's bullying?)Bullyingé uma situação que se caracteriza por agressões intencionais, verbais ou físicas, feitas de maneira repetitiva, por um ou mais alunos contra um ou mais colegas-O que é bullying virtual ou cyberbullying?(Whatis virtual bullyingorcyberbullying?) É o bullying que ocorre em meios eletrônicos, com mensagens difamatórias ou ameaçadoras circulando por e-mails, sites, blogs (os diários virtuais), redes sociais e celulares.É quase uma extensão do que os alunos dizem e fazem na escola, mas com o agravante de que as pessoas envolvidas não estão cara a cara.Dessa forma, o anonimato pode aumentar a crueldade dos comentários e das ameaças e os efeitos podem ser tão graves ou piores.Agora que você sabe a diferença entre “Bullying e Cyberbullying “, vamos fazer as atividades abaixo com toda atenção e carinho.

2) **Veja as figuras abaixo e diga se está ocorrendo bullying ou Cyberbullying, depois diga o porquê escolheu essa resposta:**



C)()Bullying Cyberbullying()



D)()Bullying Cyberbullying()



E))()Bullying Cyberbullying()



a)()Bullying Cyberbullying()



B)()Bullying Cyberbullying()



F)()Bullying Cyberbullying()

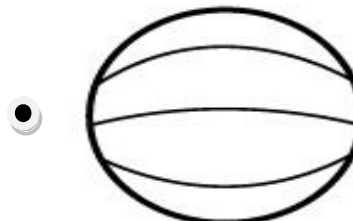


G)()Bullying Cyberbullying()


ATIVIDADE DE EDUCAÇÃO FÍSICA



1. Ligue a modalidade esportiva com a sua respectiva bola:



2. Quais são as modalidades de (esportes) que estão representadas nas imagens acima?



Seja ativo e proteja- se nessa quarentena!