

IPIRANGA DO NORTE, 17 DE AGOSTO DE 2020, SEGUNDA-FEIRA.

ALUNO: _____

PROFESSORA: _____



ATIVIDADES DO 4º ANO _____

Ensino Religioso e Arte

Tudo de bom

A amizade é uma troca.
De carinho e lealdade.
Sem briguinhas nem fofoca,
Sem inveja e sem maldade.
Ser feliz é ter amigo,
Mas também um compromisso.
Saiba ser um ombro amigo
Sempre que ele precisar! Seja amigo, pense nisso!




1- Qual é o título do texto? Explique porque o texto pode ter recebido esse título _____

2- No poema o autor diz que a amizade é uma troca. Você concorda com o autor? Quando você está brincando com seus amigos você compartilha seus brinquedos? _____

3- Os amigos são importantes em nossas vidas. Muitas vezes eles fazem parte da nossa família. E você tem muitos ou poucos amigos? Escreva o nome de alguns de seus amigos. _____

4- Quando o autor fala sobre ser um ombro amigo, o que o autor quer dizer? _____

5- Crie uma dobradura de um barco e cole sobre um lindo desenho que você pode fazer no verso da folha. Também pode assistir o vídeo para seguir os passos <https://www.youtube.com/watch?v=TIROcOV0YwI>.



Today is 17th of August 2020

English teacher: Célia Monteiro Grade: 4º. Ano _____

Student: _____

Evaluation of English

1- Escreva **I LIKE** ou **I DON'T LIKE** na sequência o nome da fruta ou legume que já esta no banco de palavras.

Example:



a-I like pepper



b- _____



c- _____



d- _____




e- _____



f- _____



g- _____



h- _____



i- _____



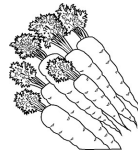
j- _____



k- _____




l- _____



m- _____



n- _____



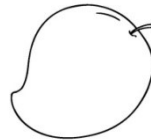
o- _____



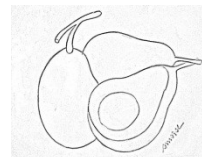
p- _____



q- _____



r- _____



s- _____

Banco de palavras por ordem de figura.

a- pepper b- apple

c- pear

d- onion

e- cherry

f- banana

g- orange

h- pineapple

i- grape

j- strawberry

k- tomato

l- broccoli

m- carrots

n- cauliflower

o- lettuce

p- garlic

q- eggplant

r- avocado

ALUNO: _____

PROFESSORA: _____

ATIVIDADES DO 4º ANO _____

Ciências e Matemática

O SOLO

É a parte mais superficial da crosta terrestre, ele recebe o nome do componente que contém em maior quantidade. O solo é constituído por areia, argila e húmus, que é uma mescla de restos de animais e vegetais em decomposição. Existem vários tipos de solo. **Arenoso:** formado por terra solta e não segura água, é um tipo de solo mais seco, para que haja uma plantação precisa ser irrigado. **Humífero:** é formado por pedaços muito pequenos de rochas e restos de animais e vegetais (húmus). É um solo ótimo para plantar. **Argiloso:** é formado por torrões de argila. É um tipo de solo que fica encharcado. Para fazer uma plantação precisa ser drenado. **Solo calcário** – formado por partículas de rochas, é seco e esquenta muito quando recebe a luz do sol. Comum em regiões de deserto.

Encontre no caça palavras os tipos de solo e complete as frases.



- 1- O solo _____ consiste na decomposição de restos de animais e vegetais no solo, que fornece nutrientes necessários para as plantas.
- 2- O solo _____ não retém água e para que haja uma plantação precisa ser irrigado.
- 3- O solo _____ é um tipo de solo que fica encharcado.
- 4- O solo _____ é seco e esquenta muito quando recebe a luz do sol.

1.Arme e efetue os cálculos (resolva as operações no verso da folha).

- | | |
|-------------|-------------|
| a) 357+383 | i) 921- 234 |
| b) 973+894 | j) 858 - 6 |
| c) 957+844 | k) 424 x 4 |
| d) 560+39+2 | l) 50 x 5 |
| e) 907+984 | m) 37 x 2 |
| f) 500 - 46 | n) 53 x 5 |
| g) 80 - 37 | o) 422 : 2 |
| h) 900 -754 | p) 24 : 2 |

2. Resolva os problemas (no verso da folha).

a) Estavam assistindo uma partida de futebol 302 pessoas .Se 98 dessas pessoas eram crianças, quantos adultos assistiam a essa partida de futebol?

R=

b) Mariana tem uma coleção com 542 adesivos e Patrícia tem 237 adesivos. Quantos adesivos Mariana tem a mais que Patrícia?

R =

ALUNO: _____

PROFESSORA: _____

ATIVIDADES DO 4º ANO _____

Português e Matemática

Gênero textual

LEIA:

Querido papai
Chegue mais cedo do seu trabalho.
Mamãe e eu estamos preparando uma surpresa para você.
Abraço do seu filho Cascão
09-08-2015



ESTUDANDO O TEXTO

- 1- QUE TEXTO É ESTE?
() receita () bilhete () convite
- 2- O PAPAÍ DEVE CHEGAR MAIS CEDO DO :
() mercado () açougue () trabalho
- 3- ELES ESTÃO PREPARANDO
() torta de limão () rotina () surpresa
- 4- O FILHO SE DESPEDIU COM UM:
() beijo () abraço () aplauso
- 5- O PERSONAGEM QUE ESCREVEU O BILHETE É O:
() cebolinha () cascão () Chico Bento

DESPESAS DA FAMÍLIA

Observe

a) Qual a maior despesa dessa família?


b) Qual é a menor?

c) Qual é o gasto total em aluguel, condomínio, telefone e supermercado?

Cálculo Resposta

d) Qual é o gasto das despesas do mês de agosto?
Com R\$ 800,00 a família consegue pagar essas Despesas?

Cálculo Resposta



ALUNO: _____

PROFESSORA: _____

ATIVIDADES DO 4º ANO _____

História e Geografia

1-De acordo com a gravura ao lado, observe muito bem o engenho de açúcar, preencha a ficha:

- a- Produto que é obtido no engenho:-----
- b- Mão de obra utilizada no engenho:----- _ -
- b- Caldo grosso feito com a cana de açúcar:-----
- c- Máquina que extraído caldo de cana de açúcar:-----
- d- Local onde os trabalhadores escravos viviam:-----
- e- Que animal era usado no transporte da cana de açúcar:-----
- f- Atualmente o açúcar é produzido onde:-----

2- Observe com atenção a imagem ao lado de como e feita a produção da cana- de açúcar: Enumere de 1 a 4 as informações corretas:

- () O caldo da cana é secado e purificado até virar açúcar. 1-
- () A cana é transportado até a moenda em carros de boi.
- () A cana-de- açúcar é moída e o caldo é cozido em um tacho de 2-
Cobre . Aquecido por caldeiras.
- () No corte da cana pelos escravos os homens vão a frente cortando
Os pés de cana com foices, e as mulheres atrás, amarrando os feixes. 3-



O que é paisagem

Paisagem é tudo aquilo que nós conseguimos enxergar
A paisagem das cidades são os prédios, as casa, as avenidas 4-
movimentadas, os comércios, etc.

A paisagem natural é formada pelos elementos naturais:
montanhas, cachoeiras, floresta, rios etc. É uma paisagem natural por que,
não tem nenhuma modificação feita pelo homem.

A paisagem humanizada é aquela que foi modificada pelo homem na necessidade de construir casas,
prédios, fábricas, avenidas, praças, hospitais etc. Essas construções que o homem realiza são denominadas
elementos humanizados.



COMPREENDENDO O TEXTO

1- De acordo com o texto o que é paisagem?

2- A paisagem é formada por elementos naturais ou culturais. Cite cinco exemplos de cada um deles:

- a- Elementos naturais:.....
- b- Elementos culturais:.....

3- Escolha no quadro abaixo a palavra correta para completar cada lacuna:

personas- paisagem - natureza-

A- O que podemos ver e perceber no espaço é chamado de.....

B- A paisagem é formada por elementos dae por elementos construídos
por.....

IPIRANGA DO NORTE, 21 DE AGOSTO DE 2020, SEXTA-FEIRA.

ALUNO: _____

PROFESSORA: _____



ATIVIDADES DO 4º ANO ____

Português e Ciências

O solo

A crosta terrestre é formada por rochas e recoberta, na maior parte, por água. O fundo dos oceanos, mares, rios e lagos também são formados por rochas.

O solo é a camada externa da crosta terrestre, onde crescem as plantas. O solo é composto por argila, areia e também húmus (resto de vegetais e de animais em decomposição) e demora milhares de anos para se formar.

Responda

1 – Como é formada a Crosta terrestre? _____

2 – O que é húmus? _____

3- Complete

a) O fundo dos oceanos, mares, rios e lagos são formados por _____

b) O solo é a camada externa da _____

c) Na crosta terrestre crescem as _____

d) O solo é composto por _____

Língua Portuguesa

Antônimo são palavras que tem o sentido **contrário** de outra. São palavras diferentes com significado oposto.

ex.: Os meninos estão **alegres**.

Os meninos estão **tristes**.

1 – Escreva o antônimo das palavras:

a) Feio _____

b) Caro _____

c) Calmo _____

d) Cheio _____

e) Alto _____

f) Magro _____

2-Passe a frase para o seu antônimo.

a) Os cachorrinhos estão feios e cheirando mal. _____

IPIRANGA DO NORTE, 22 DE AGOSTO DE 2020, SÁBADO.

ALUNO: _____

PROFESSORA: _____



ATIVIDADES DO 4º ANO _____

Língua Portuguesa e Matemática

Sinônimos

Sinônimos: São palavras que querem dizer a mesma coisa. São palavras que possuem o mesmo significado.

Exemplo: As meninas estão sempre **alegres**.

As meninas estão sempre **contentes**.

Atividades

1- Reescreva as frases abaixo trocando a palavra destacada por um sinônimo.

A) O dia está **bonito**. _____

B) O cavalo é **rápido**. _____

C) O rio está **claro**. _____

D) Ganhei um carrinho **grande**. _____

Matemática

Situações Problemas

1 – Paulo foi ao mercado e comprou uma caixa de chocolate que custou R\$ 11,00, dois pacotes de bolacha de morango que custava R\$ 7,00 cada, um refrigerante que custou R\$ 6,50. João pagou com uma nota de R\$ 50,00. Quanto ele gastou e quanto sobrou de troco?

R:

2 – Angélica foi até a loja de móveis para comprar uma cama e um guarda roupa para seu filho Pedro. Ela comprou uma cama que custou R\$ 250,00 e um guarda roupa que custou R\$ 780,00. Quanto Angélica gastou ao todo?

R:

3-Liste 5 produtos que a mamãe ou o papai compraram no supermercado e calcule qual o valor total destes produtos.

IPIRANGA DO NORTE, 18 DE AGOSTO DE 2020, TERÇA-FEIRA.

ALUNO: _____

PROFESSORA: _____



ATIVIDADES DO 4º ANO _____

Língua Portuguesa

Observe essa obra de arte de uma artista famosa do BRASIL, em seguida responda as perguntas analisando a imagem:

1-Essa obra mostra uma paisagem:

- (a) Espaço rural (b) Espaço urbano

2- Que tipo de casa a artista retratou:

- (a) Casa de alvenaria (b) Casa de madeira

3- Quais seres vivos foram apresentados na obra:

- (a) Casa e cerca (b) Touro e plantas

4-Pessoas morando juntas numa mesma casa podemos afirmar:

- (a) Forma um família (b) Forma uma sociedade

5- Escreva os nomes das plantas que você conseguiu reconhecer:

6- Essas plantas são originárias de qual região:

- A- Nordeste B- Sul C- Sudeste D- Norte E- Centro- Oeste

PIRANGA DO NORTE, 19 DE AGOSTO DE 2020, QUARTA-FEIRA.

Matemática

1-Resolva os seguintes problemas: Você pode resolver no verso da folha:Com base no ano da pintura do quadro acima 1925. Essa pintura já tem quantos anos?

2-Tarsila do Amaral em uma exposição conseguiu vender 9 telas. Sabendo que cada tela custou R\$ 3.450,00. Qual foi o valor total com a venda das telas?

3-Tarsila do Amaral nasceu no ano de 1.886. Se ela estivesse viva estaria completando em 2.020 quantos anos?



IPIRANGA DO NORTE, 20 DE AGOSTO DE 2020, QUINTA-FEIRA.

ALUNO: _____

PROFESSORA: _____

ATIVIDADES DO 4º ANO _____



Matéria: História

Falando sobre você:

- a- Seu nome completo:-----
- b- Idade:-----
- c- Gosta de:-----
- d- Não gosta de:-----
- e- Mora no endereço:-----
- f- Nasceu na cidade de:-----

Falando da sua Escola

A Escola Municipal Nossa Senhora Aparecida , criada em 23 de Abril de 1993, conforme o decreto nº 022/93 tem sua sede na Avendia Rio Amazonas. Nº 503 Centro da cidade Ipiranga do Norte, CEP 78 578 000.

1- Escola Municipal Nossa Senhora Aparecida. Sua sigla é:

- (a) EMNSA (b) ENSA (c) EENSA (d) MENSA

2- A sua Escola Municipal é uma escola:


- (a) particular (b) pública (c) estadual (d) federal

3- O bairro onde está localizada a Escola Municipal Nossa Senhora Aparecida:

- (a) Bairro das Flores (b) Bairro dos Pássaros (c) Bairro das árvores (d) Centro

4- O nome da rua da sua Escola é:

- (a) Rua dos Ipês (b) Rua dos Chapada dos Guimarães (c) Avenida Rio Amazonas (d) Rua das Araras



IPIRANGA DO NORTE, 22 DE AGOSTO DE 2020, SÀBADO.

Matéria: Geografia

1- Enumere a segunda coluna de acordo com a primeira:

- (A) Bairros residenciais.
- (B) Bairros comerciais.
- (C) Bairros industriais.

() Prevelem as lojas, Farmácias, Escolas, Praças, Fórum, Bancos entre outros, são movimentados em razão do grande número de pessoas que fazem as suas compras nesses locais comerciais ou por outra necessidade.

() Ficam mais afastadas dos centros das cidades. Neles são encontradas as indústrias de alimentos, indústrias têxteis, de materiais de construção, produtos farmacêuticos, etc...

() Aqueles nos quais prevalecem os pontos com pequenos comércios para facilitar a vida das pessoas, como padarias, açougue, mercadinhos e muitas casa de moradias, etc...